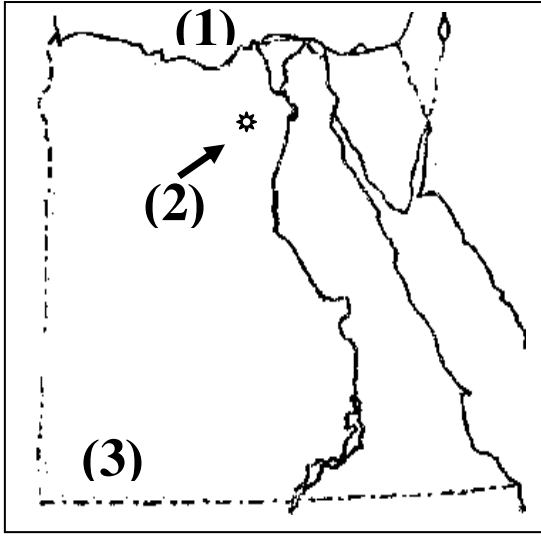


السؤال الأول: انظر إلى الخريطة واكتب ما يشير إليه كل رقم



(1) يشير رقم (1) بحر يقع شمال مصر.

- البحر

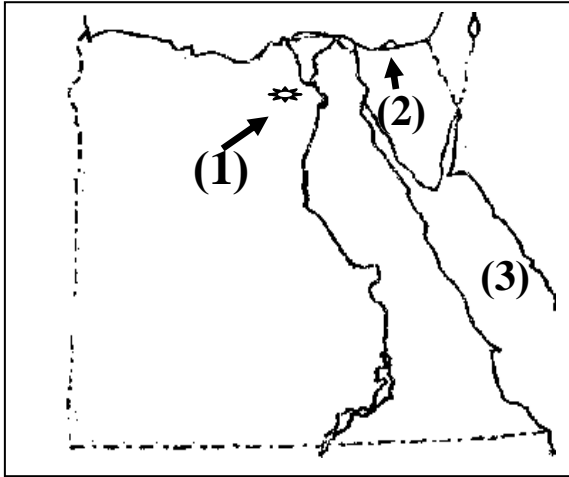
(2) يشير إلى منخفض يقع جنوب غرب القاهرة

- منخفض

(3) يشير رقم (3) جبل جنوب غرب مصر.

- جبل

انظر إلى الخريطة واكتب ما يشير إليه كل رقم



(1) يشير رقم (1) إلى بحيرة في الفيوم.

- بحيرة

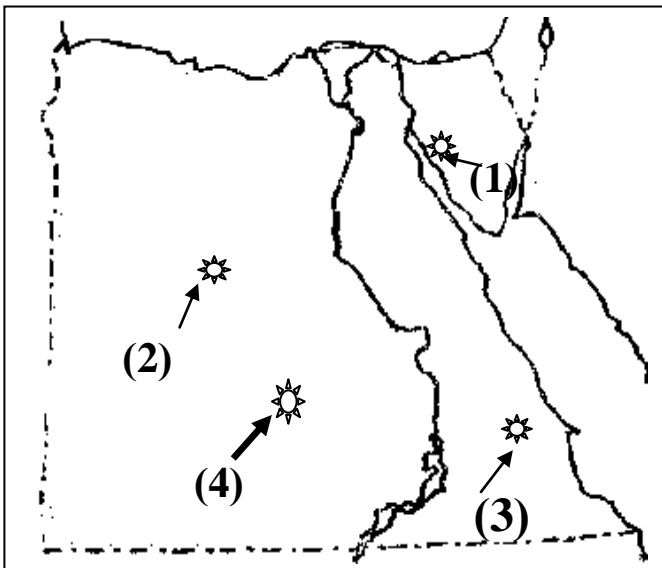
(2) يشير رقم (2) إلى بحيرة.

- بحيرة

(3) يشير رقم (3) إلى البحر.

- البحر

انظر إلى الخريطة واكتب ما يشير إليه كل رقم



- يشير رقم (1) منطقة استخراج المنجنيز

في سيناء هي

- يشير رقم (2) إلى منطقة في الصحراء

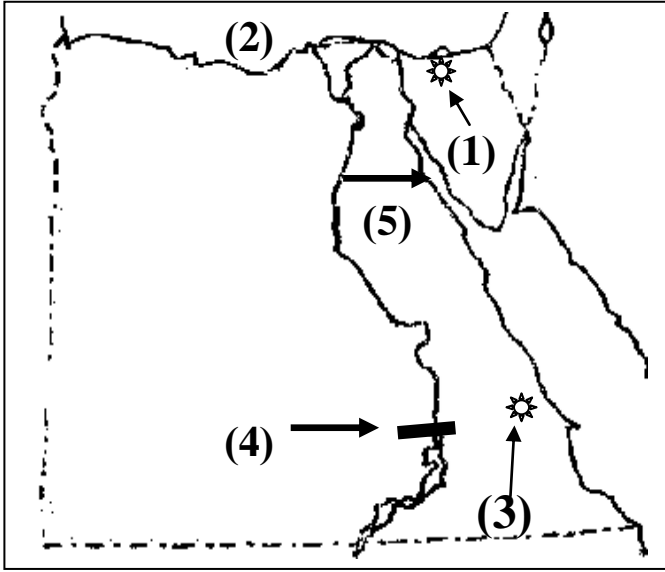
الغربية لاستخراج الحديد

- يشير رقم (3) إلى منطقة استخراج الذهب

في الصحراء الشرقية

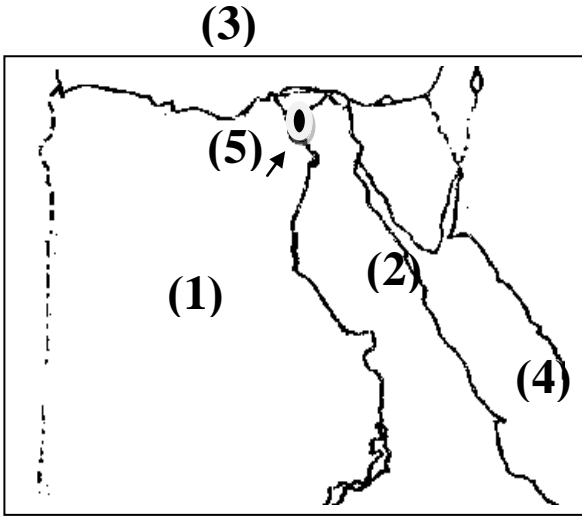
- يشير رقم (4) إلى منطقة استخراج الفوسفات في الصحراء الغربية

انظر إلى الخريطة واكتب ما يشير إليه كل رقم



- يشير رقم (1) منطقة لاستخراج الفحم
..... جبل
- يشير رقم (2) إلى البحر
.....
- يشير رقم (3) إلى منطقة استخراج الذهب
في الصحراء الشرقية.....
- يشير رقم (4) إلى السد
.....
- يشير رقم (5) إلى خليج
.....

انظر إلى الخريطة واختر:



- (1) يشير رقم (1) إلى الصحراء
.....
- (2) يشير رقم (2) إلى الصحراء
.....
- (3) يشير رقم (3) إلى البحر
.....
- (4) يشير رقم (4) إلى البحر
.....
- (5) يشير رقم (5) إلى منخفض
.....

السؤال الثامن: أكمل

- (1) صنع المصري القديم الحلي وأدوات الزينة من
.....
- (2) يتم استخراج معدن الذهب من منجم
.....
- (3) صنع المصري القديم الحلي وأدوات الزينة من
.....

السؤال الثاني: اكتب كلمة (صواب) أو كلمة (خطأ) أمام كل عبارة

- (1) يمكن أن يعيش الإنسان بدون الحاجات الأساسية. (.....)
- (2) الذهاب إلى المصيف كل عام من الحاجات الأساسية. (.....)
- (3) مياه الأنهار من الموارد الحرة المتوافرة. (.....)
- (4) التقليل من شراء الوجبات السريعة يحافظ على المال. (.....)
- (5) يسعى الإنسان دائماً إلى إشباع حاجاته الأساسية. (.....)
- (6) تناول العلاج والأدوية من الحاجات غير الأساسية. (.....)
- (7) يمكن للإنسان أن يعيش بدون الذهاب إلى السينما. (.....)
- (8) تُغطي المياه العذبة معظم مساحة الكرة الأرضية. (.....)
- (9) تقوم الزراعة في الواحات على المياه الجوفية. (.....)
- (10) الأنهار من موارد المياه المالحة في مصر. (.....)
- (11) توجد بحيرة قارون في محافظة الفيوم. (.....)
- (12) تُستخرج الأسماك من المياه المالحة والمياه العذبة. (.....)
- (13) محطة العين السخنة من أكبر محطات تحلية المياه في العالم. (.....)
- (14) تكون المياه الجوفية المالحة قريبة من الأنهار. (.....)
- (15) ساعدت الأقمار الصناعة في سهولة استخراج المعادن. (.....)
- (16) يتم استخراج الحديد من منطقة أم بجمة في سيناء. (.....)
- (17) يُستخرج الحديد من الواحات البحرية في الصحراء الغربية. (.....)
- (18) صنع المصري القديم بعض الأدوات من عظام الحيوانات. (.....)

- (19) استخدام التكنولوجيا في استخراج المعادن يزيد من التكلفة. (.....)
- (20) استخدم المصري القديم حجر الصوان في صناعة بعض أدواته. (.....)
- (21) استخدم المصري القديم الذهب في صناعة الحلي. (.....)
- (22) يُستخرج الغاز الطبيعي من حقول برية أو حقول بحرية. (.....)
- (23) محطة قرية بنبان في أسوان تولد الكهرباء من الرياح. (.....)
- (24) استخدم المصري القديم النار في التدفئة وطهي الطعام. (.....)
- (25) مصادر الطاقة غير المتجددة مصادر صديقة للبيئة. (.....)
- (26) الهيدروجين الأخضر يُعد مستقبل الطاقة في العالم. (.....)
- (27) الفحم من مصادر الطاقة صديقة البيئة. (.....)
- (28) يتم توليد الطاقة الكهرومائية من مساقط المياه على نهر النيل. (.....)
- (29) استخدم المصري القديم النقود في عملية البيع والشراء. (.....)
- (30) يصعب استخدام نظام المقايضة الآن. (.....)
- (31) ظهرت العملات الورقية قبل ظهور العملات الذهبية. (.....)
- (32) البنك المركزي هو المسئول عن إصدار العملات الورقية. (.....)
- (33) كلما زادت كمية المنتج يرتفع سعره. (.....)
- (34) يرتفع سعر المنتج إذا توافرت كمية كبيرة منه. (.....)
- (35) عملة مصر الرسمية هي الدولار. (.....)

السؤال الثالث: ضع خطاً تحت الإجابة الصحيحة

- (1) من الحاجات الأساسية
- الذهاب إلى المصيف. - الذهاب إلى السينما.
- ممارسة الألعاب. - تناول الطعام.
- (2) كل ما يأتي من الحاجات الأساسية ماعدًا
- المأكل. - المشرب.
- الألعاب. - الملابس.
- (3) من الموارد النادرة والقليلة
- مياه البحر. - المياه العذبة.
- أشعة الشمس. - الهواء.
- (4) مع التقدم الحضاري ظهرت حاجات أساسية مثل:
- الرعاية الصحية. - الأمن.
- التعلم. - جميع ما سبق.
- (5) تقوم الزراعة في الواحات على مياه
- (نهر النيل - الأمطار - المياه الجوفية - البحار)
- (6) من موارد المياه العذبة كل ما يلي ماعدًا
- (الأنهار - الأمطار - البحار - البحيرات العذبة)
- (7) يُسمى كوكب الأرض باسم الكوكب
- (الأحمر - الأزرق - الأخضر - الأسود)

(8) يصب فرع رشيد وفرع دمياط في البحر

(الأحمر - المتوسط - الميت - الأسود)

(9) تعتمد الزراعة في الساحل الشمالي على مياه

(نهر النيل - الأمطار - المياه الجوفية - البحار)

(10) توجد محمية الزرائق غرب مدينة العريش بمحافظة

(شمال سيناء - جنوب سيناء - القاهرة - أسوان)

(11) استخدم المصري القديم في صناعة الحلي وأدوات الزينة.

(الحديد - النحاس - الذهب - البرونز)

(12) يتم استخراج الحديد من

(أم بجمة - الواحات البحرية - منجم السكري - أبو طرطور)

(13) من طرق استخراج المعادن وفصلها عن الصخر

(التبريد - التجميد - الصهر - التبخير)

(14) استخدم المصري القديم النحاس والبرونز في

(العصر الحجري القديم - العصر الحجري الحديث - عصر المعادن)

(15) من الوسائل التكنولوجية المستخدمة في البحث عن المعادن

- تكنولوجيا الغواصات الذكية والحديثة.

- تكنولوجيا الهواتف الذكية.

- تكنولوجيا الطائرات وصور الأقمار الصناعية.

- تكنولوجيا بناء المدن الذكية.

- (16) محطة جبل الزيت في محافظة البحر الأحمر تولد الكهرباء من
- (الرياح - الشمس - المياه - البترول)
- (17) يتم استخراج الفحم من منطقة
- (أم بجمة - جبل المغارة - منجم السكري)
- (18) أي مما يأتي ليس من مشتقات البترول
- (البنزين - السولار - البلاستيك - الفحم)
- (19) مصدر الطاقة الذي يستخدم في صناعة الصلب
- (البترول - الفحم - الشمس - الرياح)
- (20) يتم توليد الكهرباء في قرية بنبان في أسوان من
- (الرياح - الشمس - المياه - الفحم)
- (21) المسئول عن إصدار العملات الورقية في مصر
- (البنك الأهلي - البنك المركزي - بنك مصر - بنك القاهرة)
- (2) استوحى المصريون القدماء العملة الذهبية من عملة
- (السعودية - اليونان - أمريكا - لبنان)
- (23) العملة الرسمية لدولة مصر هي
- (الدولار - الجنيه المصري - الريال - الدينار)
- (24) تبادل السلعة بسلعة أخرى يُسمى نظام
- (التوفير - المقايضة - البيع - الشراء)
- (25) يتم استخراج الفحم من منطقة
- (أم بجمة - جبل المغارة - منجم السكري)

السؤال الرابع: أجب عن الأسئلة الآتية

(1) اذكر سببًا واحدًا لحدوث المشكلة الاقتصادية.

..... -

(2) ماذا تتوقع إذا زاد معدل نمو السكان عن معدل النمو الاقتصادي؟

..... -

(3) اكتب دليلًا على أهمية الحاجات الأساسية.

..... -

(4) اكتب نتيجة تترتب على زيادة معدل نمو السكان عن معدل النمو الاقتصادي.

..... -

(5) ما العلاقة بين نمو السكان والمشكلة الاقتصادية؟

..... -

(6) اذكر سببًا واحدًا لتسمية الأرض باسم الكوكب الأزرق.

..... -

(7) ماذا تتوقع إذا قلت المياه العذبة على سطح الأرض؟

..... -

(8) اكتب دليلًا على أهمية محطات تحلية المياه لمصر.

..... -

(9) اكتب مقترحًا لترشيد استخدام المياه العذبة.

..... -

(10) اكتب مقترحًا لزيادة المياه العذبة.

..... -

(11) ما الأهمية الاقتصادية لمعدن الحديد؟

..... -

(12) اكتب دليلاً على أن التكنولوجيا لها دور كبير في استخراج المعادن.

..... -

(13) اكتب سبباً واحداً لأهمية التعدين.

..... -

(14) اذكر سبباً لبناء محطة لتوليد الكهرباء من الشمس في قرية بنبان بأسوان.

..... -

(15) فسر سبب اتجاه العالم نحو فصل الهيدروجين من الماء.

..... -

(16) اكتب دليلاً على جهود الدولة لتنمية الطاقة المتجددة.

..... -

(17) اكتب نتيجة تترتب على كثرة استخدام الفحم كمصدر للطاقة.

..... -

(18) اكتب سبباً واحداً: اهتمام الدولة بزيادة محطات توليد الطاقة المتجددة.

..... -

(19) اذكر سبباً واحداً: يصعب استخدام نظام المقايضة الآن.

..... -

(20) ماذا تتوقع إذا لو اختفت النقود والعملات؟

..... -

(21) اكتب نتيجة تترتب على عدم وجود علامات مائية على النقود.

..... -

(22) اكتب سبباً واحداً لاختراع الإنسان للنقود.

..... -

السؤال الخامس: استبعد المختلف

- (1) بحيرة المنزلة - بحيرة البرلس - بحيرة قارون - بحيرة ناصر.
- (2) الفحم - البترول - الرياح - الغاز الطبيعي .
- (3) الشمس - الفحم - الرياح - الطاقة الكهرومائية.

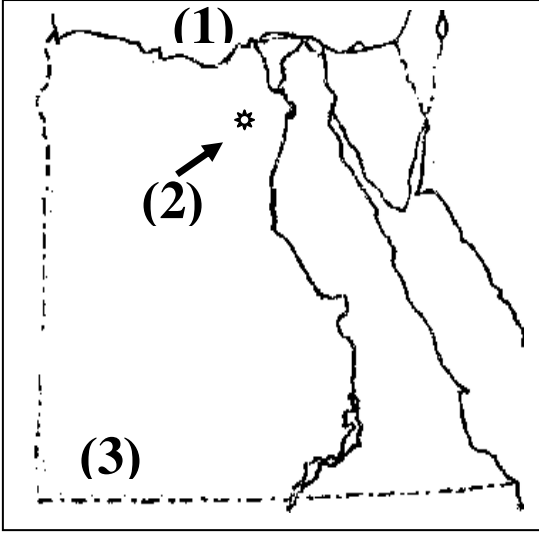
السؤال السادس: صوب ما تحته خط

- (1) يصب فرعا دمياط ورشيد في البحر الأحمر. (.....)
- (2) بحيرة قارون من البحيرات العذبة. (.....)
- (3) الأنهار من موارد المياه المالحة. (.....)

السؤال السابع: اكتب ما تدل عليه العبارة

- (1) زيادة معدل نمو السكان عن معدل نمو الموارد الاقتصادية. (.....)
- (2) حاجات تساعد الإنسان على البقاء على قيد الحياة. (.....)
- (3) شعور بالحرمان يدفع الفرد إلى اشباع هذه الحرمان. (.....)
- (4) عملية استخراج المعادن من باطن الأرض. (.....)
- (5) نوع من النقود العالمي ينتج من خلال التحليل الكهربائي. (.....)
- (6) المصادر التي تنفذ باستخدامنا المستمر لها. (.....)
- (6) المصادر التي لا تنفذ رغم استخدامنا المستمر لها . (.....)
- (7) تبادل السلع والخدمات بدون استخدام النقود. (.....)
- (8) نظام تم اختراعه لتحديد قيمة الأشياء وتبادلها بين الناس. (.....)

السؤال الأول: انظر إلى الخريطة واكتب ما يشير إليه كل رقم



(1) يشير رقم (1) بحر يقع شمال مصر.

- البحر **المتوسط** .

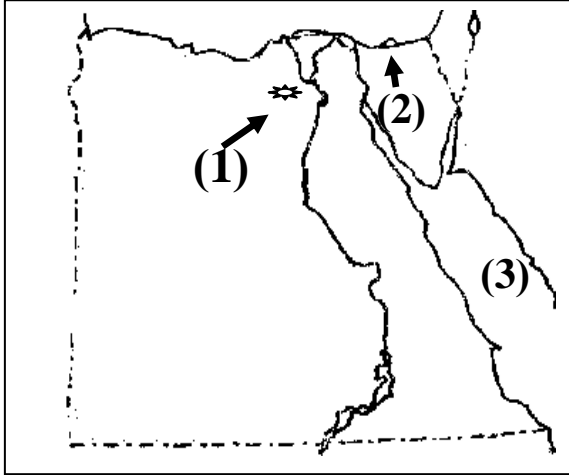
(2) يشير إلى منخفض يقع جنوب غرب القاهرة

- منخفض **الفيوم** .

(3) يشير رقم (3) جبل جنوب غرب مصر.

- جبل **العوينات** .

انظر إلى الخريطة واكتب ما يشير إليه كل رقم



(1) يشير رقم (1) إلى بحيرة في الفيوم.

- بحيرة **قارون** .

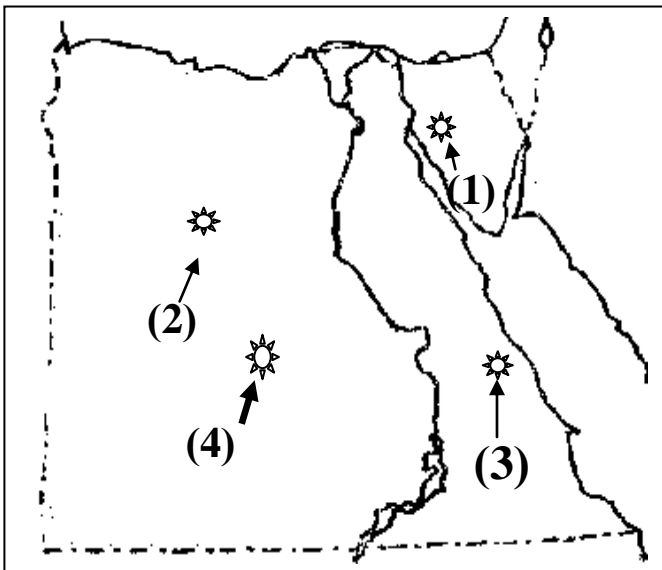
(2) يشير رقم (2) إلى بحيرة .

- بحيرة **البردويل** .

(3) يشير رقم (3) إلى البحر.

- البحر **الأحمر** .

انظر إلى الخريطة واكتب ما يشير إليه كل رقم



- يشير رقم (1) منطقة استخراج المنجنيز

في سيناء هي **أم بجمة** .

- يشير رقم (2) إلى منطقة في الصحراء

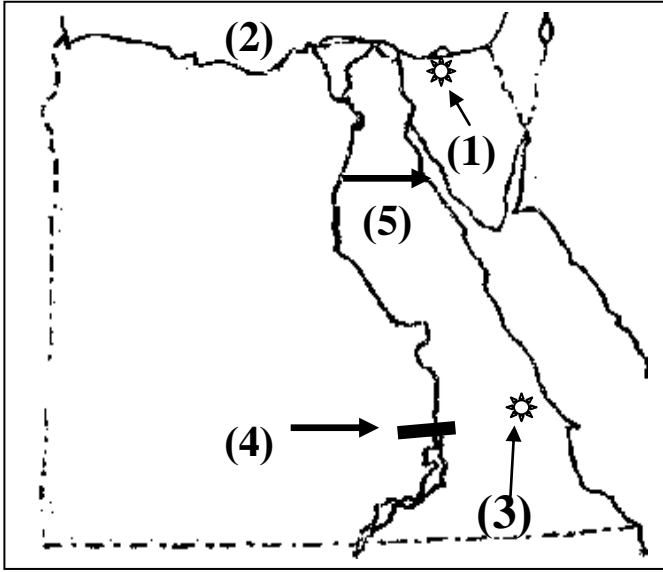
الغربية لاستخراج الحديد **الواحات البحرية** .

- يشير رقم (3) إلى منطقة استخراج الذهب

في الصحراء الشرقية **منجم السكري** .

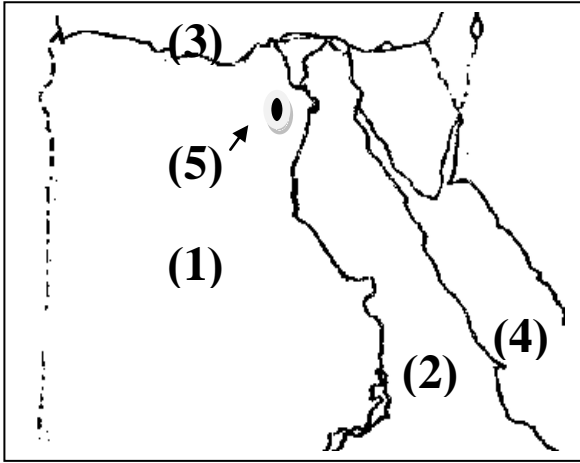
- يشير رقم (4) إلى منطقة استخراج الفوسفات في الصحراء الغربية **أبو طرطور** .

انظر إلى الخريطة واكتب ما يشير إليه كل رقم



- يشير رقم (1) منطقة لاستخراج الفحم **جبل المغارة** .
- يشير رقم (2) إلى البحر **المتوسط** .
- يشير رقم (3) إلى منطقة استخراج الذهب في الصحراء الشرقية **منجم السكري** .
- يشير رقم (4) إلى السد **العالي** .
- يشير رقم (5) إلى خليج **السويس** .

انظر إلى الخريطة واختر:



- (1) يشير رقم (1) إلى الصحراء **الغربية** .
- (2) يشير رقم (2) إلى الصحراء **الشرقية** .
- (3) يشير رقم (3) إلى البحر **المتوسط** .
- (4) يشير رقم (4) إلى البحر **الأحمر** .
- (5) يشير رقم (5) إلى منخفض **الفيوم** .

السؤال الثامن: أكمل

- (1) صنع المصري القديم الحلي وأدوات الزينة من **الذهب** .
- (2) يتم استخراج معدن الذهب من منجم **السكري** .

السؤال الثاني: اكتب كلمة (صواب) أو كلمة (خطأ) أمام كل عبارة

- (1) يمكن أن يعيش الإنسان بدون الحاجات الأساسية. (X)
- (2) الذهاب إلى المصيف كل عام من الحاجات الأساسية. (X)
- (3) مياه الأنهار من الموارد الحرة المتوافرة. (X)
- (4) التقليل من شراء الوجبات السريعة يحافظ على المال. (✓)
- (5) يسعى الإنسان دائماً إلى إشباع حاجاته الأساسية. (✓)
- (6) تناول العلاج والأدوية من الحاجات غير الأساسية. (X)
- (7) يمكن للإنسان أن يعيش بدون الذهاب إلى السينما. (✓)
- (8) تُغطي المياه العذبة معظم مساحة الكرة الأرضية. (X)
- (9) تقوم الزراعة في الواحات على المياه الجوفية. (✓)
- (10) الأنهار من موارد المياه المالحة في مصر. (X)
- (11) توجد بحيرة قارون في محافظة الفيوم. (✓)
- (12) تُستخرج الأسماك من المياه المالحة والمياه العذبة. (✓)
- (13) محطة العين السخنة من أكبر محطات تحلية المياه في العالم. (✓)
- (14) تكون المياه الجوفية المالحة قريبة من الأنهار. (X)
- (15) ساعدت الأقمار الصناعية في سهولة استخراج المعادن. (✓)
- (16) يتم استخراج الحديد من منطقة أم بجمة في سيناء. (X)
- (17) يُستخرج الحديد من الواحات البحرية في الصحراء الغربية. (✓)
- (18) صنع المصري القديم بعض الأدوات من عظام الحيوانات. (✓)

- (19) استخدام التكنولوجيا في استخراج المعادن يزيد من التكلفة. (X)
- (20) استخدم المصري القديم حجر الصوان في صناعة بعض أدواته. (✓)
- (21) استخدم المصري القديم الذهب في صناعة الخلي. (✓)
- (22) يُستخرج الغاز الطبيعي من حقول برية أو حقول بحرية. (✓)
- (23) محطة قرية بنبان في أسوان تُولد الكهرباء من الرياح. (X)
- (24) استخدم المصري القديم النار في التدفئة وطهي الطعام. (✓)
- (25) مصادر الطاقة غير المتجددة مصادر صديقة للبيئة. (X)
- (26) الهيدروجين الأخضر يُعد مستقبل الطاقة في العالم. (✓)
- (27) الفحم من مصادر الطاقة صديقة البيئة. (X)
- (28) يتم توليد الطاقة الكهرومائية من مساقط المياه على نهر النيل. (✓)
- (29) استخدم المصري القديم النقود في عملية البيع والشراء. (✓)
- (30) يصعب استخدام نظام المقايضة الآن. (✓)
- (31) ظهرت العملات الورقية قبل ظهور العملات الذهبية. (X)
- (32) البنك المركزي هو المسئول عن إصدار العملات الورقية. (✓)
- (33) كلما زادت كمية المنتج يرتفع سعره. (X)
- (34) يرتفع سعر المنتج إذا توافرت كمية كبيرة منه. (X)
- (35) عملة مصر الرسمية هي الدولار. (X)

السؤال الثالث: ضع خطاً تحت الإجابة الصحيحة

- (1) من الحاجات الأساسية
- الذهاب إلى المصيف. - الذهاب إلى السينما.
- ممارسة الألعاب. - تناول الطعام.
- (2) كل ما يأتي من الحاجات الأساسية ماعدا
- المأكل. - المشرب.
- الألعاب. - الملابس.
- (3) من الموارد النادرة والقليلة
- مياه البحر. - المياه العذبة.
- أشعة الشمس. - الهواء.
- (4) مع التقدم الحضاري ظهرت حاجات أساسية مثل:
- الرعاية الصحية. - الأمن.
- التعلم. - جميع ما سبق.
- (5) تقوم الزراعة في الواحات على مياه
- (نهر النيل - الأمطار - المياه الجوفية - البحار)
- (6) من موارد المياه العذبة كل ما يلي ماعدا
- (الأنهار - الأمطار - البحار - البحيرات العذبة)
- (7) يُسمى كوكب الأرض باسم الكوكب
- (الأحمر - الأزرق - الأخضر - الأسود)

(8) يصب فرع رشيد وفرع دمياط في البحر

(الأحمر - المتوسط - الميت - الأسود)

(9) تعتمد الزراعة في الساحل الشمالي على مياه

(نهر النيل - الأمطار - المياه الجوفية - البحار)

(10) توجد محمية الزرائق غرب مدينة العريش بمحافظة

(شمال سيناء - جنوب سيناء - القاهرة - أسوان)

(11) استخدم المصري القديم في صناعة الحلي وأدوات الزينة.

(الحديد - النحاس - الذهب - البرونز)

(12) يتم استخراج الحديد من

(أم بجمة - الواحات البحرية - منجم السكري - أبو طرطور)

(13) من طرق استخراج المعادن وفصلها عن الصخر

(التبريد - التجميد - الصهر - التبخير)

(14) استخدم المصري القديم النحاس والبرونز في

(العصر الحجري القديم - العصر الحجري الحديث - عصر المعادن)

(15) من الوسائل التكنولوجية المستخدمة في البحث عن المعادن

- تكنولوجيا الغواصات الذكية والحديثة.

- تكنولوجيا الهواتف الذكية.

- تكنولوجيا الطائرات وصور الأقمار الصناعية.

- تكنولوجيا بناء المدن الذكية.

- (16) محطة جبل الزيت في محافظة البحر الأحمر تولد الكهرباء من
- (الرياح - الشمس - المياه - البترول)
- (17) يتم استخراج الفحم من منطقة
- (أم بجمة - جبل المغارة - منجم السكري)
- (18) أي مما يأتي ليس من مشتقات البترول
- (البنزين - السولار - البلاستيك - الفحم)
- (19) مصدر الطاقة الذي يستخدم في صناعة الصلب
- (البترول - الفحم - الشمس - الرياح)
- (20) يتم توليد الكهرباء في قرية بنبان في أسوان من
- (الرياح - الشمس - المياه - الفحم)
- (21) المسئول عن إصدار العملات الورقية في مصر
- (البنك الأهلي - البنك المركزي - بنك مصر - بنك القاهرة)
- (2) استوحى المصريون القدماء العملة الذهبية من عملة
- (السعودية - اليونان - أمريكا - لبنان)
- (23) العملة الرسمية لدولة مصر هي
- (الدولار - الجنيه المصري - الريال - الدينار)
- (24) تبادل السلعة بسلعة أخرى يُسمى نظام
- (التوفير - المقايضة - البيع - الشراء)
- (25) يتم استخراج الفحم من منطقة
- (أم بجمة - جبل المغارة - منجم السكري)

السؤال الرابع: أجب عن الأسئلة الآتية

(1) اذكر سببًا واحدًا لحدوث المشكلة الاقتصادية.

- زيادة معدل نمو السكان عن معدل زيادة الموارد الاقتصادية المتاحة.

(2) ماذا تتوقع إذا زاد معدل نمو السكان عن معدل النمو الاقتصادي؟

- تحدث مشكلة اقتصادية.

(3) اكتب دليلًا على أهمية الحاجات الأساسية.

- لا يستطيع الإنسان البقاء على قيد الحياة بدونها.

(4) اكتب نتيجة تترتب على زيادة معدل نمو السكان عن معدل النمو الاقتصادي.

- تحدث مشكلة اقتصادية.

(5) ما العلاقة بين نمو السكان والمشكلة الاقتصادية؟

- زيادة نمو السكان يسبب مشكلة اقتصادية.

(6) اذكر سببًا واحدًا لتسمية الأرض باسم الكوكب الأزرق.

- لأن المياه تغطي 71% من مساحة سطح الأرض.

(7) ماذا تتوقع إذا قلت المياه العذبة على سطح الأرض؟

- يقل الغذاء وتقل الزراعة.

(8) اكتب دليلًا على أهمية محطات تحلية المياه لمصر.

- توفر المياه العذبة للمناطق السكنية والصناعية وتحل مشكلة نقص المياه العذبة.

(9) اكتب مقترحًا لترشيد استخدام المياه العذبة.

- تقليل وقت الاستحمام وعدم رش المياه أمام المنازل والمحلات.

(10) اكتب مقترحًا لزيادة المياه العذبة.

- بناء محطات تحلية المياه.

(11) ما الأهمية الاقتصادية لمعدن الحديد؟

- صناعة الآلات - السكك الحديدية.

(12) اكتب دليلا على أن التكنولوجيا لها دور كبير في استخراج المعادن.

- يؤدي إلى تكلفة أقل مع المحافظة على البيئة.

(13) اكتب سببًا واحدًا لأهمية التعدين.

- توفير فرص عمل وزيادة الدخل القومي.

(14) اذكر سببًا لبناء محطة لتوليد الكهرباء من الشمس في قرية بنبان بأسوان.

- لأنها من أكثر المناطق سطوعًا للشمس في العالم.

(15) فسر سبب اتجاه العالم نحو فصل الهيدروجين من الماء.

- لتوفير الكهرباء النظيفة وخفض نسبة الاحتباس الحراري.

(16) اكتب دليلا على جهود الدولة لتنمية الطاقة المتجددة.

- زيادة محطات توليد الطاقة المتجددة و تطوير وسائل النقل لتعمل بالكهرباء.

(17) اكتب نتيجة تترتب على كثرة استخدام الفحم كمصدر للطاقة.

- تلويث البيئة.

(18) اكتب سببًا واحدًا: اهتمام الدولة بزيادة محطات توليد الطاقة المتجددة.

- لأنها تقلل تلوث البيئة.

(19) اذكر سببًا واحدًا: يصعب استخدام نظام المقايضة الآن.

- لصعوبة تخزين بعض السلع، وعدم حاجة الشخص إلى السلعة التي يتم تبادلها

(20) ماذا تتوقع إذا لو اختفت النقود والعملات؟

- العودة إلى نظام المقايضة وصعوبة البيع والشراء.

(21) اكتب نتيجة تترتب على عدم وجود علامات مائية على النقود.

- تزييف (تزوير) أو تقليد أي عملة.

(22) اكتب سببًا واحدًا لاختراع الإنسان للنقود.

- لتسهيل عملية البيع والشراء.

السؤال الخامس: استبعد المختلف

- (1) بحيرة المنزلة - بحيرة البرلس - بحيرة قارون - بحيرة ناصر.
- (2) الفحم - البترول - الرياح - الغاز الطبيعي .
- (3) الشمس - الفحم - الرياح - الطاقة الكهرومائية.

السؤال السادس: صوب ما تحته خط

- (1) يصب فرعا دمياط ورشيد في البحر الأحمر. (المتوسط)
- (2) بحيرة قارون من البحيرات العذبة. (المالحة)
- (3) الأنهار من موارد المياه المالحة. (العذبة)

السؤال السابع: اكتب ما تدل عليه العبارة

- (1) زيادة معدل نمو السكان عن معدل نمو الموارد الاقتصادية. (المشكلة الاقتصادية)
- (2) حاجات تساعد الإنسان على البقاء على قيد الحياة. (الحاجات الأساسية)
- (3) شعور بالحرمان يدفع الفرد إلى اشباع هذه الحرمان. (الحاجة)
- (4) عملية استخراج المعادن من باطن الأرض. (التعدين)
- (5) نوع من الوقود العالمي ينتج من خلال التحليل الكهربائي. (الهيدروجين الأخضر)
- (6) المصادر التي تنفذ باستخدامنا المستمر لها. (المصادر غير المتجددة)
- (6) المصادر التي لا تنفذ رغم استخدامنا المستمر لها . (المصادر المتجددة)
- (7) تبادل السلع والخدمات بدون استخدام النقود. (المقايضة)
- (8) نظام تم اختراعه لتحديد قيمة الأشياء وتبادلها بين الناس. (النقود)