


الأخصاء



اللغة العربية

الصف 1 الثانوى

مقترح النماذج الاسترشادية لشهر أكتوبر
العام الدراسى

2024 - 2023

النموذج الأول

مجاب عنه

(الامتحان ٣٠ درجة)

أولاً: القراءة المتحررة:

(٦ درجات)

«قد يتبادر إلى الأذهان أن العصر الجاهلي يشمل كل ما سبق الإسلام من حقب وأزمنة، فهو يدل على الأطوار التاريخية للجزيرة العربية في عصورها القديمة قبل الميلاد وبعده. ولكن من يبحثون في الأدب الجاهلي لا يتسعون في الزمن به هذا الاتساع، إذ لا يتغلغلون به إلى ما وراء قرن ونصف من البعثة النبوية، بل يكتفون بهذه الحقبة الزمنية، وهي الحقبة التي تكاملت للغة العربية منذ أوائلها خصائصها، والتي جاءنا عنها الشعر الجاهلي. ولاحظ ذلك الجاحظ بوضوح إذ قال: «أما الشعر (العربي) فحديث الميلاد صغير السن، أول من نهج سبيله وسهل الطريق إليه امرؤ القيس بن حجر ومهلل بن ربيعة.. فإذا استظهرنا الشعر وجدنا له - إلى أن جاء الله بالإسلام - خمسين ومائة عام، وإذا استظهرنا بغاية الاستظهار فمائتي عام». وهي ملاحظة دقيقة، لأن ما قبل هذا التاريخ في الشعر العربي مجهول».

تاريخ الأدب العربي - العصر الجاهلي.. الدكتور شوقي ضيف

١- حدد من خلال قراءتك للموضوع السابق وصفاً دقيقاً لكاتبه:

- (أ) موضوعي؛ حيث إنه عرض فكرته وكرره في شرحها ليوضحها للمتلقى.
- (ب) موضوعي؛ حيث إنه عرض فكرته وأيدها بالدليل.
- (ج) متعصب؛ حيث إنه عرض فكرته ولم يؤيدها بدليل علمي.
- (د) متردد؛ حيث إنه عرض الفكرة وترك للقارئ الحكم على صدقها.

٢- استنتج مما ذكر عن «امرئ القيس بن حجر» مكانته بين شعراء الجاهلية:

- (أ) واضح أوزانه وبعوره.
- (ب) أول من قال الشعر الجاهلي.
- (ج) رائد الشعر الجاهلي.
- (د) أكثرهم شعراً وفضلاً.

٣- بين من خلال ما ذكر في الموضوع السابق سبباً جعل الذين يبحثون في الأدب الجاهلي لا يتغلغلون به إلى ما وراء قرن ونصف من البعثة النبوية؟

(٦ درجات)

ثانياً: النصوص المتحررة:

قال زهير بن أبي سلمى:

وَلَقَدْ نَهَيْتُكُمْ وَقُلْتُ لَكُمْ
أَبْنَاءَ حَرْبٍ مَاهِرِينَ بِهَا
قَدْ كُنْتُ أَعْهَدُهُمْ وَخِيَاهُمْ
أَيْسَارُ صِدْقٍ مَا عَلِمْتُهُمْ
لَا تَقْرُبَنَّ فَوَارِسَ الصَّيْدَاءِ
تُغْذِي صِغَارَهُمْ بِحُسْنِ غِذَاءِ
يَلْقَوْنَ قَدَمًا عَوْرَةَ الْأَعْدَاءِ
عِنْدَ الشِّتَاءِ وَقَلَّةِ الْأَنْوَاءِ

٤- حدد البيت الذي يعبر عن «الكرم والنجدة» ساعة العسرة:

- (أ) الأول.
- (ب) الثاني.
- (ج) الثالث.
- (د) الرابع.

٥- حدد من خلال الأبيات السابقة الصفة التي تميز بها « فوارس الصياداء »:

- (أ) الإقدام .
(ب) الحرص .
(ج) الخضوع .
(د) إتقان العمل .

٦- استنتج سبب النهي الوارد في البيت الأول:

- (أ) الخوف الشديد على القوم من فوارس الصياداء لكثرة عددهم .
(ب) منع القوم من نقض المعاهدة بينهم وبين فوارس الصياداء .
(ج) تحذير القوم من قوة ومهارة فوارس الصياداء .
(د) تحذير القوم من مقاتلة فوارس الصياداء حتى لا يمنعوا عنهم الخير في الشتاء .

ثالثاً: الأدب:

(٤ درجات)

٧- «أيها الناس، اسمعوا وُعوا؛ من عاش مات، ومن مات فات». حدد الفن النثري للعبارة، ثم اذكر خاصيتين من خصائصه.

قال عمرو بن كلثوم في مطلع قصيدته:

أَلَا هُبِّي بِصَخْنِكَ فَاصْبِحِينََا وَلَا تُبْقِي خُمُورَ الْأَنْدَرِينَا

٨- من خلال فهمك للبيت السابق، وضح كيف خالف عمرو بن هند منهج القصيدة الجاهلية:

- (أ) الغزل وذكر المحبوبة .
(ب) بدأ معلقته بوصف الخمر .
(ج) الاستهلال بذكر بقايا الديار .
(د) وصف الطبيعة وما فيها .

رابعاً: البلاغة:

(٤ درجات)

يقول الشاعر:

كَأَنَّ الْبَحْرَ مَيْدَانٌ وَفِيهِ مِنْ السُّفُنِ الَّتِي تَجْرِي خِيُولُ

٩- ميز نوع الخيال في الشطر الأول من البيت السابق:

- (أ) تشبيه مجمل .
(ب) تشبيه بليغ .
(ج) تشبيه ضمني .
(د) تشبيه مفصل .

١٠- يقول الشاعر في وصف محبوبته:

فَقُلْتُ أَحْسَنْتِ أَنْتِ الشَّمْسُ طَالِعَةٌ أَضْرَمْتِ فِي الْقَلْبِ وَالْأَحْشَاءِ نِيرَانًا

بين سر جمال التشبيه في البيت السابق.

خامساً: النحو:

(٨ درجات)

١١- «ما فتئت المعركة مشتعلة». ما تحته خط:

- (أ) حال .
(ب) نعت .
(ج) خبر ما فتئ .
(د) مفعول به .

١٢- «لا تبرح منزلك إلا متوكلاً على الله». ما تحته خط:

- (أ) فاعل .
(ب) مفعول به .
(ج) خبر لا تبرح .
(د) اسم لا تبرح .

١٣- «حري الفلسطينيون أن يتحدوا». بين حكم اقتران خبر «حري» بـ «أن» وموقعه الإعرابي على الترتيب:

- (أ) يجب - في محل نصب خبر.
(ب) يجب - في محل رفع خبر.
(ج) يجب - في محل نصب مفعول به.
(د) يكثر - في محل نصب خبر.

١٤- «شرع العمال بينون المنازل - شرع الله الدين». اللفظان الموضوع تحتها خط:

- (أ) كلاهما فاعل.
(ب) كلاهما اسم شرع.
(ج) الأول اسم شرع والثاني فاعل.
(د) الأول فاعل والثاني اسم شرع.

(درجتان)

سادساً: التعبير الوظيفي:

١٥- صمم إعلاناً تعلن فيه مدرستك عن رحلة لزيارة بانوراما حرب أكتوبر، والتعرف على مجريات أحداث الحرب من خلالها.

النموذج الثاني

(الامتحان ٣٠ درجة)

مجاب عنه

(٦ درجات)

أولاً: القراءة المتحررة:

اقرأ ثم أجب:

- «كان «عمر بن عبد العزيز» يحب خاله «عبدالله بن عمر بن الخطاب» ﷺ؛ يُؤثرُ صحبته ويسير سيرته، ويحرص على أن يتفقه في الدين مثله. قال لأمه يوماً: إني أريد أن أكون كخالى عبدالله.
- أعجبت الأم بابنها؛ وبالمثل الكريم الذى اتخذه لنفسه، ولكنها كانت أكثر طموحاً فقالت له؛ وأين أنت من جدك عُمر! فنَبَّهته إلى أن يجعل مثاله جدّه عمروهياته بالتربية والرعاية لذلك. واقتنع الفتى بهذه النصيحة فلم يزل يتتبع سيرة جده ويلتزم خطته، حتى ولى الخلافة واشتهر بالعدل والزهد والتقوى كما يُعرف جده عُمر.
- وهكذا نجد أن الشباب حين يتخذ لنفسه مثلاً أعلى يترسم خطاه ويحاكيه يصل إلى أمله، لكن أمانى الشباب لا يحققها التمنى، وإنما تتحقق إذا صحبتها قوة في العزم، وثبات في الجِد، فإذا توافر الشرطان وامتد الأجل كان للشباب ما تمناه».

١- حدد العنوان المناسب للقطعة السابقة:

- (أ) القدوة الحسنة. (ب) عجب الأم. (ج) اقتناع الصبي. (د) أمانى الشباب.

يقول الشاعر:

بقدر الكد تكتسب المعالي ومن طلب العلا سهر الليالي

٢- أى الفقرات فى القطعة السابقة يتماشى مع مضمون البيت السابق؟

- (أ) الأولى. (ب) الثانية. (ج) الثالثة. (د) لا تتناسب الفقرات مع البيت.

٣- استنتج مغزى الكاتب من مقاله.

(٦ درجات)

ثانياً: النصوص المتحررة:

اقرأ ثم أجب: يقول عنتره:

أعاتب دهرًا لا يلين لعاتب
وتوعدنى الأيام وعدًا تغرنى
خدمت أناسًا واتخذت أقاربًا
ينادوننى فى السلم يا بن زبيبة
ولولا الهوى ما ذل مثلى لمثلهم
سيذكرنى قومى إذا الخيل أصبحت
وأطلب أمنًا من صروف النوائب
وأعلم حقًا أنه وعدٌ كاذب
لعونى ولكن أصبحوا كالعقارب
وعند صدام الخيل يا بن الأطايب
ولا خضعت أسد الفلا للثعالب
تجول بها الفرسان بين المضارب

٤- حدد معنى كلمة «النوائب» فى البيت الأول من خلال السياق:

- (أ) الكوارث. (ب) الفواحش. (ج) الكبائر. (د) الجرائم.

٥- حدد البيت الذي يدل على نفاق قوم عنترة:

- (أ) الثاني. (ب) الثالث. (ج) الرابع. (د) الخامس.

٦- استنتج العاطفة المسيطرة على الشاعر في الأبيات:

- (أ) الحزن والحسرة. (ب) القلق والحيرة.
(ج) الغضب والنفور. (د) الحب الشديد لقومه.

(٤ درجات)

ثالثًا: الأدب:

اقرأ ثم أجب: يقول زهير بن ابى سلمى:

قِفِ بِالْدِيَارِ الَّتِي لَمْ يَعْفُهَا الْقَدَمُ
لَا الدَّارُ غَيْرَهَا بَعْدَى الْأَنْبَسِ وَلَا
بَلَى وَغَيْرَهَا الْأَرْوَاحُ وَالْدَيْمُ
بِالدَّارِ لَوْ كَلَّمْتَ ذَا حَاجَةٍ صَمَمُ

٧- حدد من البيتين منهجًا من مناهج القصيدة الجاهلية:

- (أ) الغزل الصريح. (ب) البدء بالغرض الرئيس.
(ج) وصف الناقة. (د) الوقوف على الأطلال.

٨- بم يتميز أسلوب الحكم والأمثال في العصر الجاهلي؟

(٤ درجات)

رابعًا: البلاغة:

اقرأ ثم أجب:

لَوْلَمْ تَكُنْ مِصْرَ الْعَرِيقَةِ مَوْطِنِي
وَسَلَكْتَ دَرْبَ الْحَبِّ مِثْلَ طَيُورِهَا
لَغَرَسْتَ بَيْنَ تَرَابِهَا وَجَدَانِي
وَوَجَعْتَ مِنْ عَطْرِ الزَّمَانِ قَلَانِدِي
وَوَجَعْتَ مِنْ عَطْرِ الزَّمَانِ قَلَانِدِي
وَوَجَعْتَ مِنْ عَطْرِ الزَّمَانِ قَلَانِدِي

٩- ميز نوع التشبيه في قوله «درب الحب» في البيت الثاني:

- (أ) بليغ. (ب) مفصل.
(ج) مجمل. (د) ضمنى.

١٠- استنتج العاطفة المسيطرة على الشاعر من خلال فهمك للأبيات.

(٨ درجات)

خامسًا: النحو:

١١- ما زال للحق رجال مخلصون. إعراب كلمة «رجال»:

- (أ) فاعل. (ب) خبر ما زال.
(ج) اسم ما زال. (د) مضاف إليه.

١٢- أحسن إلى جارك تكن..... (تخير الصحيح).

- (أ) سعادتك. (ب) سعادتك. (ج) سعادتك. (د) سعادتك.

١٣- «أخذ المظلوم حقه وافيًا». ما تحته خط:

- (أ) اسم أخذ.
(ب) فاعل.
(ج) مبتدأ.
(د) خبر.

١٤- «لعل أبويك مؤمنان بموهبتك». إذا وضعت «عسى» مكان «لعل» فالتغيير الحادث هو:

- (أ) أبواك أن يؤمنا.
(ب) أبويك أن يؤمنا.
(ج) أبواك مؤمنان.
(د) أبويك مؤمنين.

(درجتان)

سادسًا: التعبير الوظيفي:

«كان كلما تأمل حاله تعجب من نفسه، كيف يرضى أن يقيم في قوم يحميهم ويدافع عنهم، ويجلب لهم النصر، ويحمل إليهم الغنائم، ثم لا يجد منهم إلا الإنكار والبخل، ولا يسمع في ندائهم إلا قولهم: «عبد شداد»؟! وزاد من عجبه أنه كلما تذكر سيده شدادًا أحس نحوه عطفًا. كان حُب شداد يملأ قلب عنترة، فلا يُزعزعه شيء مما يُزعزع القلوب، كان شداد صورة البطل عند عنترة، وصورة السيد وصورة المعبود، كان يقسو عليه أحيانًا ويعنف معه في الحديث أحيانًا. بل لقد كان أحيانًا يمد إليه يده بالسوط فيتحمل منه الضربة جامدًا، ولا يزيد على أن يقول له: لن تستطيع أن تصرفني عن حبك يا سيدي».

١٥- اكتب تعليقًا على موقف عنترة وأبيه في الفقرة السابقة، مراعيًا سلامة اللغة.

.....

.....

.....

النموذج الثالث

مجاب عنه

(الامتحان ٣٠ درجة)

أولاً: القراءة المتحررة:

اقرأ ثم أجب:

- ▶ إن اللغة العربية لغة قديمة وحديثة، وهى لغة القرآن الكريم، وهو الذى أبقى على اللغة العربية؛ لأن الإسلام دين الإنسانية كلها وباللغة العربية حفظت علوم السنة والمعارف الإسلامية من قديم وحديث، وبها ترجمت العلوم الإسلامية إلى اللغات الأخرى، وانتشر الإسلام عن طريق هذه الترجمة وبها ترجمت علوم الغرب الحديثة فاستفاد منها الإسلام والمسلمون أيضاً.
- ▶ وتبدو أهمية اللغة الفصحى والحفاظ عليها من قول سيدنا عمر بن الخطاب -رضى الله عنه: « تعلموا العربية فإنها دينكم وتعلموا الفرائض فإنها من دينكم». (رواه البيهقى فى شعب الإيمان).
- ▶ وإن تردى اللغة العربية جاء من عدم الاهتمام بمعلم اللغة العربية وعدم تأهيله تأهيلاً صحيحاً، كما أن اللغة العربية تشوهت ألفاظها على يد أهل اللغة أنفسهم وعلى يد الإعلام الذى يستخدم ألفاظاً غير مقبولة».

من مقال للدكتور: إسماعيل شاهين أمين عام رابطة الجامعات الإسلامية

١- أى - مما يلى - يعد من أسباب بقاء اللغة العربية من وجهة نظر الكاتب؟

- (أ) أنها لغة سهلة.
- (ب) أنها لغة القرآن الكريم.
- (ج) أنها لغة علم.
- (د) أنها لغة أدب.

٢- حدد القضية التى يتناولها الكاتب فى الفقرة الأخيرة:

- (أ) أسباب تردى اللغة العربية.
- (ب) أسباب تردى أوضاع معلمى اللغة العربية.
- (ج) تدهور لغة الإعلام.
- (د) تشوه ألفاظ اللغة العربية.

٣- يقول الشاعر:

أرى كُلَّ يَوْمٍ بِالْجَرَائِدِ مَزْلَقًا مِنْ الْقَبْرِ يُدِينِنِي بِغَيْرِ أُنَاقٍ

- حدد من الفقرة الأخيرة القول الذى يتماشى مع قول الشاعر فى البيت السابق.

(٦ درجات)

ثانياً: النصوص المتحررة:

اقرأ ثم أجب: قالت الخنساء:

أعينى جوداً ولا تجمداً
ألا تبكيان الجرىء الجميل
طويل النجاد رفيع العما
إذا القوم مدوا بأيديهم
فنال الذى فوق أيديهم
ترى المجد يهوى إلى بيته
ألا تبكيان لصخر الندى
ألا تبكيان الفتى السيدا
د ساد عشيرته أمردا
إلى المجد مد إليه يدا
من المجد ثم مضى مصعدا
يرى أفضل الكسب أن يحمدا

٤- حدد علاقة البيت الخامس بالبيت الرابع :

- (أ) مقابلة .
(ب) نتيجة .
(ج) تعليل .
(د) تفصيل بعد إجمال .

٥- حدد البيت الذى يعبر عن إسراع صخر إلى الخير :

- (أ) الأول .
(ب) الثالث .
(ج) الرابع .
(د) الخامس .

٦- ما العاطفة المسيطرة على الشاعرة فى هذه الأبيات ؟

- (أ) عاطفة الحزن والألم ممتزجة بعاطفة الإعجاب والتمجيد .
(ب) الفخر بمآثر صخر .
(ج) الغضب والضيق .
(د) الكره والغضب .

ثالثاً: الأدب :

(٤ درجات)

٧- حدد مما يلى خصيصة من خصائص الشعر الجاهلى من حيث الخيال .

- (أ) استخدام التشابيه الطريفة والاستعارات الجميلة .
(ب) المبالغة فى استخدام المجاز .
(ج) الاعتماد على التعبير الحقيقى .
(د) غرابة التشبيهات .

يقول عنترة بن شداد :

إنى أناليث العرين ومن له قلب الجبان محير مدهوش
إنى لأعجب كيف ينظر صورتي يوم القتال مبارز ويعيش

٨- استنتج من البيت غرضاً من أغراض الشعر فى العصر الجاهلى .

(٤ درجات)

رابعاً: البلاغة :

اقرأ ثم أجب: قال «ابن الرومى» فى موت ابنه:

طواه الردى عنى فأضحى مزاره بعيداً على قرب قريباً على بعد
لقد أنجزت فيه المنايا وعيدها وأخلفت الآمال ما كان من وعد
ألح عليه النزف حتى أحاله إلى صفرة الجادى عن حمرة الورد
فيا لك من نفس تساقط أنفساً تساقط درمن نظام بلا عقد

٩- ميز نوع التشبيه فى البيت الرابع :

- (أ) مجمل .
(ب) تمثيلى .
(ج) مفصل .
(د) بليغ .

١٠- عبر من خلال فهمك للأبيات كيف عبر الشاعر عن قسوة الموت على ابنه .

١١- «بدأ المطر أن ينهمر» صوب الخطأ في الجملة السابقة:

- (أ) بدأ المطر الانهمار. (ب) بدأ المطر ينهمر.
(ج) يبدأ المطر ينهمر. (د) يبدأ المطر في الانهمار.

١٢- «إن الجنديين متعبان». إذا وضعت «أمسى» مكان «إن» فالتغيير الحادث هو:

- (أ) الجنديان متعبين. (ب) الجنديين متعبين.
(ج) الجنديان متعبان. (د) الجنديان متعبين.

١٣- «أوشكت سحائب مصر أن تمطر». التاء في «أوشكت»:

- (أ) حرف تأنيث مبني على السكون لا محل له من الإعراب.
(ب) ضمير مبني على الفتح في محل رفع اسم أوشك.
(ج) ضمير مبني على الضم في محل رفع اسم أوشك.
(د) ضمير مبني على الكسر في محل رفع فاعل.

١٤- «فليبق الحب ما دامت الحياة». إعراب كلمة «الحياة»:

- (أ) خبر ما دام. (ب) اسم ما دام.
(ج) فاعل. (د) نائب فاعل.

١٥- اكتب دعوة من مدرستك لولى أمرك لحضور حفل تكريمك في أوائل الطلبة، مراعيًا سلامة اللغة ودقة التعبير.

.....
.....



English

الصف **1** الثانوى

النماذج الاسترشادية شهر أكتوبر
العام الدراسى

2023 - 2024

Model (1)

1 Choose the Two correct answers of the Five options:

1. The government seeks to keep the sustainable development.
The synonyms of the word "sustainable" are ".....".

- a) very b) continual c) usual
d) lasting e) important

2. The teacher was so fast, that's why I couldn't notes.

- a) do b) take c) make
d) have e) comment

Choose the correct answer from a, b, c or d:

3. Every year, I collect my old clothes and donate them to a

- a) laundry b) school c) club d) charity

4. The door was locked and I was inside for an hour till mom came and released me.

- a) hanged b) based c) stuck d) busy

5. He fainted because his blood went down.

- a) colour b) pressure c) transfusion d) heart

6. Egypt tries to increase the national to improve the standard of living.

- a) income b) outcome c) input d) knowledge

7. Once I heard the noise, I rushed to the to see what was happening in the street.

- a) garage b) balcony c) bathroom d) moon

8. It's very important for us to have a safe which includes all organisms.

- a) computer system b) security system
c) ecosystem d) video

9. When the teacher entered the class, everyone up.

- a) was standing b) stood
c) were standing d) stands

10. At 7 o'clock yesterday, my son his homework.

- a) did b) was doing c) were doing d) was done

11. The partners الشركاء had a/an that they will have expanded their company by the end of the year.

- a) accident b) article c) debate d) agreement

12. As soon as I get the documents, I travel abroad.
a) am going b) don't c) will be d) will
13. The bus at 6 am tomorrow, so you can catch it easily.
a) operates b) will operate c) operated d) is operating
14. What Amal's play about? I couldn't attend the show.
a) did b) was c) were d) does
15. It's time I for work. Can you pass me the keys?
a) left b) leave c) had left d) will leave
16. While down Facebook, I saw old memories which made my day.
a) scrolling b) scroll c) was scrolling d) the scrolling

2 Read the following passage, then answer the questions:

Tourism industry refers to all activities related to the short-term movement of people to locations away from where they usually stay. **It** is a global industry, which includes hotels industry, transport industry and a number of additional industries. It is vital to understand that tourism industry is linked to movement to different locations, based not only on leisure, but also on business and some additional travel goals.

According to the most common definitions, tourism industry does not cover activities related to travel where the person intends to stay in their destination for longer than one year. As an example, this means that expatriates and long-term international students are not technically classified as tourists.

Tourists may be motivated to travel by a range of different factors, such as refreshment of body and mind, or the pursuit of excitement, entertainment or pleasure. Alternatively, travellers may be driven by cultural curiosity, self-improvement, business, or by a desire to visit friends and family, or to form new relationships. While business travellers are usually classified as tourists, it is worth noting that many definitions of the word exclude those who travel with the intention of making an income in the place that they travel to.

Tourism offers a wide range of benefits, including economic benefits for countries that attract a large number of visitors, due to the money they spend on local businesses. It also provides a large number of jobs for people working in the transport and hospitality industries.

Choose the correct answer from a, b, c or d:

1. Tourism is related to those who travel for
 - a) enjoyment and fun and nothing else
 - b) business, enjoyment or fun
 - c) remedy and health care only
 - d) selling and buying goods to foreigners only
2. The international students are not considered as tourists because
 - a) they don't spend much money
 - b) they have scholarship
 - c) they are committed to the hostel's rules
 - d) their stay lasts for more than 12 months
3. Which one of these is not mentioned in the passage as a reason for tourism?
 - a) Taking photos at airports.
 - b) Refreshment of body and mind.
 - c) Pursuit of excitement or pleasure.
 - d) Cultural curiosity and self-improvement.
4. Many definitions of the word "tourism" exclude the business travellers because
 - a) their intention is to sightsee
 - b) their journey is meant to earn money
 - c) they travel on the business class
 - d) they are rich
5. Tourism is good for solving unemployment problems because
 - a) it attracts a large number of visitors
 - b) tourist spend a lot of money on hotels
 - c) it provides a large number of jobs
 - d) tourists use the public transportation
6. The underlined pronoun "it" refers to
 - a) tourism industry
 - b) hotel industry
 - c) movement
 - d) transportation
7. The best title for the passage is "".
 - a) Tourism and Human
 - b) What is Tourism
 - c) Tourists are Respectful
 - d) Visit Egypt

3 (A) Choose the correct English translation:

- سافرت أمس إلى القاهرة لأرى أصدقائي القادمي، لقد حظينا بوقت جيد معاً و تجولنا في شوارع القاهرة القديمة كثيراً قبل أن يوصلوني إلى محطة القطار.

- a) I travelled yesterday to Cairo to see my friends; we have a good time together. We have got around the streets of Old Cairo a lot before they get me to the train station.
- b) Yesterday, I travelled to Cairo to see my old friends; we had a good time together. We had walked around the streets of Old Cairo a lot before they got me to the train station.
- c) Yesterday, I had went to Cairo to see my old friends; we had had a good time together. We had got around the streets of Old Cairo a lot before they had got me to the train airport.
- d) Yesterday, I travelled to Cairo to see my old friends; we had a good time together. We had gone around the streets of Old Cairo a lot before they deliver me to the train port.

(B) Choose the correct Arabic translation:

As soon as you arrive in Egypt you will feel the warmth of the local people whether you are young, old, or in-between, retired or just simply adventurous.

- a) بمجرد وصولك لمصر ستشعر بحب سكانها المحليين عندما كنت صغيراً، أم كبيراً أو في منتصف العمر، متقاعدًا أو مجرد شخص يحب المغامرات.
- b) كما هو قريب وصولك لمصر ستشعر بدفء سكانها المحليين سواء كنت صغيراً، أم كبيراً أو بين ذلك، متقاعدًا أو مجرد شخص مغامر.
- c) عندما تصل مصر ستشعر بدفء سكانها المحليين سواء كنت صغيراً، أم كبيراً أو في منتصف العمر، معتزلاً أو مجرد شخص مغامر.
- d) بمجرد وصولك لمصر ستشعر بدفء سكانها المحليين سواء كنت صغيراً، أم كبيراً أو في منتصف العمر، متقاعدًا أو مجرد شخص مغامر.

4 Write an essay of about (150) words about a journey you had as an ecotourist.

.....

.....

.....

.....

.....

.....

Model (2)

1 Choose the Two correct answers of the Five options:

1. When it comes to winning, I never lose hope. The antonyms of the word "hope" are ".....".

- a) ambition b) wanting c) hopelessness
d) need e) despair

2. Rania is for a job in the neighbourhood because she has children.

- a) researching b) looking c) riding
d) carrying e) searching

Choose the correct answer from a, b, c or d:

3. Dad always criticises my as I prefer casual style while he prefers the classic one.

- a) environment b) appearance c) movement d) empathy

4. are very lucky as they don't see the busy roads of the city.

- a) Biologists b) Urban people c) Villagers d) Policemen

5. The bus stopped suddenly and we had to for 500 metres.

- a) drink b) insult c) trek d) play

6. Blood is the process of putting blood into the body after an injury.

- a) transplants b) transfusion c) pressure d) donation

7. I fell down and my leg hurt, but it didn't

- a) swell up b) sink c) get around d) trek

8. Discrimination is to treat some people in a specific way and treat in another one.

- a) other b) others c) other's d) another

9. The teacher to explain the lesson first, then we wrote it.

- a) was used b) used c) use d) using

10. My mother to work by car when the bus is late.

- a) go b) goes c) went d) going

11. Our house every year.

- a) paints b) will paint c) is painted d) is painting

12. Bullying by all religions.

- a) is not allowed b) doesn't allow c) will be allowed d) allowed

13. Did the man pay the rental when he was alive?

- a) uses b) use to c) using d) used

14. We each other very well.

- a) are knowing b) knows c) are known d) know

15. the cat long hair?

- a) Does/ has b) Is/ having c) Is/ have d) Does/ have

16. Evaporation when water is heated till boiling.

- a) runs b) creates c) happens d) gets

2 Read the following passage, then answer the questions:

Friends come in all shapes and sizes. They may be classmates we met as children, a teammate at the club, someone we met at work or through other friends. They may be friends who live at a distance in another country or virtual friends we've made online. Whoever they are, however we meet them, friends are there to help us in difficult times and to celebrate the good times. Doctors say that friends are very important for both our physical and **mental** health at all stages of life.

Friends are not only important on an individual level; friendship can also be important on a global level. Friendships that cross borders can help bring peace and avoid war. Learning to think of other people, people who are different from us, as our friends HELPS us work together to build a culture of peace. That's why the UN declared July 30 as its official International Day of Friendship.

Wherever **it** is celebrated, the celebrations are very similar. Friends meet up to spend time together. They may eat out or have a meal at home. They give each other small gifts: books, flowers, simple accessories such as a friendship band (a simple bracelet). Some people send each other cards and greetings online. Whatever form the celebration takes, the spirit is the same - to remember the importance of friends and the power of friendship.

Choose the correct answer from a, b, c or d:

1. Where do we meet friends?
 - a) At schools
 - b) At work
 - c) At a distance in another country
 - d) All mentioned
2. Doctors say that
 - a) friends are very important to lend us money
 - b) friends are very important for both our physical and mental health
 - c) friends are very important to play with them online
 - d) all mentioned
3. According to the passage, friendships that cross borders can
 - a) help us marry foreigners
 - b) keep the international relations
 - c) help bring peace and avoid war
 - d) improve the English language
4. We celebrate our friends by
 - a) spending time together
 - b) eating out or have a meal at home
 - c) giving each other small gifts
 - d) all mentioned
5. The spirit of celebrating our friends
 - a) depends on how we celebrate
 - b) doesn't change
 - c) depends on how expensive the gifts the give are
 - d) depends on the nationality of the friend
6. We can replace the underlined word "mental" with
 - a) manual
 - b) powerful
 - c) psychological
 - d) visual
7. The underlined pronoun "it" refers to
 - a) celebrations
 - b) friendship
 - c) everywhere
 - d) similar

3 (A) Choose the correct English translation:

- ملايين الجنيهات تنفق سنويًا على التعليم لأننا ندرك أن إصلاحه ضرورة قصوى ولا يمكن أن يؤجل، فإن حضارة أي أمة تبني على التعليم.

- a) Millions of dollars are spent daily on education as we know that reclaiming it is an urgent necessity and can't be delayed. The civilisation of any nation is built on education.
- b) Millions of pounds spend annually on education as we realise that reclaiming it is a must necessity and can't delay. The civilisation of any nation builds on education.
- c) Millions spend annually on education as we know that reclaiming it is an absolute necessity and can't be postponed. The civilisation of any nation is based on learning.
- d) Millions of pounds are spent yearly on education as we realise that reforming it is an absolute necessity which can't be delayed. The civilisation of any nation is built on education.

(B) Choose the correct Arabic translation:

- Mohammad Salah is not just a football player who plays and scores goals. He is an effective member in society as he always helps people from his village in Egypt.

- a) إن محمد صلاح ليس مجرد لاعب كرة قدم يلعب ويحرز أهدافًا، إنه عضو مؤثر في المجتمع، حيث إنه دائمًا ما يساعد أهل قريته بمصر.
- b) إن اللاعب محمد صلاح ليس مجرد لاعب كرة قدم يلعب ويحرز أهدافًا، إنه عضو مفيد في المجتمع، لأنه دائمًا ما يساعد أهل بلده.
- c) إن محمد صلاح ليس مجرد لاعب كرة يلعب ويسجل أهدافًا، إنه عضو فعال في المجتمع، حيث إنه دائمًا لا يساعد أهل قريته بمصر.
- d) إن محمد صلاح ليس مجرد لاعب كرة قدم يلعب ويحرز أهدافًا، إنه عضو مؤثر في المجتمع، حيث إنه يساعد أهل مدينته ببلده.

Model (3)

1 Choose the Two correct answers of the Five options:

1. I watched a dull movie yesterday and I felt sorry for wasting my time.
The antonyms of the word "dull" are ".....".

- a) uninteresting b) interesting c) exciting
d) stupid e) boring

2. The conductor collected the fare and without talking.

- a) went on b) went away c) emptied
d) left e) served

Choose the correct answer from a, b, c or d:

3. This boy is He can solve any maths problem.

- a) naughty b) short c) quiet d) brilliant

4. I wish I lived in a village and raised

- a) cattle b) lions c) scorpions d) ghosts

5. Believe in your and you will succeed.

- a) able b) ability c) disability d) muscles

6. You are a and everyone follows your steps.

- a) fast person b) role model c) coward person d) rare model

7. The restaurant was very, so Adam didn't come.

- a) near b) relaxing c) hidden d) remote

8. The role of the traffic man is to the streets.

- a) walk b) govern c) instruct d) regulate

9. After her father passed away, her grandfather became her

- a) guardian b) gardener c) bodyguard d) secretary

10. My sister TV at 3:30 yesterday.

- a) were watching b) was watching
c) watched d) watch

11. I used to be a lazy student, but now I

- a) don't b) didn't c) am d) am not

12. I in Tanta for ten years. Now, I hope to return to it.

- a) have lived b) has lived c) will live d) lived

- 13.** You will be excluded as long as you the sessions. Attendance is a must.
- a) attend b) attending
c) don't attend d) doesn't attend
- 14.** The new project to connect between 6th of October city and Imbaba.
- a) is designed b) designed c) is designing d) was designing
- 15.** The doctor him and gave him some medicine.
- a) examined b) examining c) was examining d) examines
- 16.** While I, the lights went off.
- a) were studying b) studied
c) was studying d) study

2 Read the following passage, then answer the questions:

Ramadan is a very special time for Muslims all over the world. Observing Ramadan is very important for all Muslims. During Ramadan, all Muslims over the age of 12, with some exceptions, are expected to fast between dawn and sunset.

During Ramadan, the day starts early so that people can eat a pre-fast meal before dawn. This meal, called Suhoor, is important as it will keep them going through the day. During daylight hours, fasting Muslims cannot eat food or drink water or any other drink. This is particularly difficult as the day can be very long. People who live in Polar Regions, where daylight can last 22 hours or more, can choose to follow the dawn and sunset times in Mecca or a nearby country where the sky is dark at night.

Children under the age of 12, people who are travelling, elderly people, pregnant women and others where it may affect their health are exempt from fasting. Those who can't fast for any reason can offer to feed poor people for each day they miss during Ramadan.

Muslims fast during Ramadan to bring them closer to God and to remind them of the suffering of people who are less fortunate than themselves. Fasting is an exercise in self-control. As well as not eating, drinking or smoking, Muslims try to avoid bad actions, like talking about people behind their backs or using bad language.

Choose the correct answer from a, b, c or d:

1. Who is expected to fast?
 - a) People above 12.
 - b) People who are travelling.
 - c) Elderly people.
 - d) Pregnant women.
2. People who can't fast for any reason
 - a) will be punished
 - b) can offer to feed poor people instead
 - c) can fast till midday and as long as they had Suhoor
 - d) are bad ones
3. Fasting is
 - a) difficult
 - b) to fast for 22 hours
 - c) an exercise in self-control
 - d) a & b
4. Suhoor is eaten
 - a) before the dawn
 - b) after the dawn
 - c) during the dawn
 - d) after the sunset
5. The underlined word "observing" means
 - a) seeing
 - b) hosting
 - c) celebrating
 - d) ignoring
6. People living in areas with no night-time are
 - a) exempt from fasting
 - b) allowed to follow Mecca timings
 - c) not acceptable to fast
 - d) not Muslims
7. The lessons learnt from fasting Ramadan are to
 - a) to be poor
 - b) hate food
 - c) get closer to our family
 - d) avoid bad actions

3 (A) Choose the correct English translation:

- يعتبر الفيل من أكبر الكائنات الحية حجماً في العالم، فهو يتراوح وزنه من خمسة إلى ثمانية أطنان، لكنه حيوان أليف وغير عدواني على الإطلاق.

- a) Elephants considered one of the biggest organisms in the world. They weigh 5-8 tons, but they are domestic animals and not aggressive at all.
- b) The elephant is considered one of the largest organisms in the world. It weighs 5-8 tons, but it's a domestic animal and not an enemy at all.
- c) The elephant is considered one of the biggest organisms in the world. It weighs 5-8 tons, but it's a friendly animal and not angry at all.
- d) The elephant is considered one of the biggest organisms in the world. It weighs 5-8 tons, but it's a domestic animal and not aggressive at all.

(B) Choose the correct Arabic translation:

- Many conservationists work hard to preserve the environment. People should be aware of their duties towards the ecosystem and how to keep it safe and clean.

- a) الكثير من السياح المحافظين على البيئة يعملون بجد ليحافظوا عليها، ويجب على الناس أن يدركوا واجباتهم تجاه النظام البيئي وكيفية الحفاظ عليه آمناً و مطمئناً.
- b) الكثير من المعنيين بالحفاظ على البيئة يعملون بجد ليحافظوا عليها، ويجب على الناس أن يعوا واجباتهم تجاه النظام البيئي وكيفية الحفاظ عليه آمناً ونظيفاً.
- c) الكثير من السكان المحافظين على البيئة يعملون بجد ليحافظوا عليها، ويجب على الناس أن يعوا حقوقهم تجاه النظام البيئي وكيفية الحفاظ عليه مؤمناً ونظيفاً.
- d) بعض من المعنيين بالحفاظ على البيئة يعملون بجد ليحموها، ويجب على الناس أن يفهموا واجباتهم تجاه البيئة وكيفية الحفاظ عليها آمنةً ونظيفةً.

4 Write an essay of about (150) words about the role of businessmen in helping society.

.....

.....

.....

.....

.....

.....

.....

Model (4)

1 Choose the Two correct answers of the Five options:

1. The internet has many benefits in the educational field. The antonyms of the word "benefits" are ".....".

- a) demerits b) determination c) merits
d) drawbacks e) possibilities

2. Fathers can do anything to protect their families the different dangers of society.

- a) to b) with c) from
d) by e) against

Choose the correct answer from a, b, c or d:

3. The farm isThe nearest house is 30 kilometres away.

- a) isolated b) lonely c) alone d) isolation

4. The police officer gave them a/an to change themselves to be better.

- a) chance b) loan c) instance d) check

5. There are many modern ways to preserve the where we live.

- a) environment b) shop c) tree d) atmosphere

6. Once I received the exam paper, I felt and forgot all what I had studied.

- a) released b) stressed c) compressed d) generous

7. My parents were over the when I told them about my exam results.

- a) moon b) hills c) sun d) pleasure

8. While exploring the area, the team found some prints indicating that there were lions around.

- a) leg b) hand c) paw d) palm

9. The night guard was the main gate when the burglar hit him.

- a) seeing b) monitoring c) looking d) scolding

10. I'd rather my son to a near country so that I can visit him.

- a) travels b) travel c) was travelling d) travelled

11. touching the car, the alarm went off and awoke everyone.

- a) During b) On c) At d) In

12. Naser, so don't wait for long.
 a) always is late b) is late always c) is always late d) always late
13. taken from this platform?
 a) Are Tanta trains b) Does Tanta trains
 c) Do Tanta trains d) Is Tanta trains
14. I a BMW car for 5 years; I wish I hadn't sold it.
 a) have had b) has had c) had had d) had
15. While the pool, the worker slipped inside it.
 a) fill b) filling c) was filling d) was filled
16. At six o'clock yesterday, I a maths class with my lovely teacher.
 a) have b) have had c) were having d) was having

② Read the following passage, then answer the questions:

People have been playing sports in Egypt for thousands of years. There are pictures that show the Ancient Egyptians boxing, weight-lifting, swimming, and doing athletics. They also showed boat races.

Ancient Egyptians' children also played with toys, and many of their games are still enjoyed by young people in the present day. Boys and girls did not play together, and their different sports reflected the values expected of the sexes: boys were frequently seen wrestling, rowing, boxing, or playing competitive team sports like field hockey, while girls were depicted juggling, engaged in gymnastics and gymnastic dance. Girls and boys were taught to swim at an early age, and both were depicted in this sport and in boating.

There were team sports, too, and players used balls that were made from papyrus and leather. We also learned about these sports from ancient texts. The rules which we use today have been followed since ancient times. The ancient Egyptians had referees to check that sports were played correctly and there were uniforms and sports equipment for the competitors. Pharaohs and important people used to watch the sport with many other spectators. Losers were congratulated for taking part and there were awards and prizes for the winners. They were given something like today's medals, with different colours showing if they were first, second, or third.

Choose the correct answer from a, b, c or d:

1. The word “congratulate” is close in meaning to “.....” .
a) criticise b) punish c) blame d) praise
2. The underlined pronoun “they” refers to “.....” .
a) competitors b) athletes
c) ancient pictures d) boats
3. Who used to watch these sports?
a) Pharaohs. b) Ordinary people.
c) Important people. d) All mentioned.
4. A/An is the person who is responsible for controlling and regulating games.
a) athlete b) referee c) sportsman d) winner
5. The best title for the passage is “.....” .
a) Ancient Egyptians b) Sports in Ancient Egypt
c) Kinds of Sports d) Importance of Sports
6. We know about the Ancient Egyptians’ sports from
a) books b) photos
c) paintings on museums’ walls d) none of the above
7. The underlined word “competitors” is an antonym to “.....” .
a) teammates b) challengers c) racers d) players

3 (A) Choose the correct English translation:

- هناك جمعيات خيرية مختصة بمساعدة الفقراء والأيتام في كل أنحاء الجمهورية، يجب علينا أن نتعاون لتسهيل نشاط هذه الجمعيات، فيمكن أن نشارك بوقتنا أو مجهودنا لدعمهم.

- a) There are schools specialised in helping the poor and orphans all over the country. We must cooperate to facilitate their work, for example, we can divide our time or effort to support them.
- b) There are associations specialised in helping the poor and orphans all over the country. We should cooperate to simple their work, for example, we can share our time or effort to support them.
- c) There are charities specialised in helping the poor and orphans all over the country. We should cooperate to facilitate their work, for example, we can share our time or effort to support them.
- d) There are charities specially in helping the poor and orphans all over the country. We need to cooperate to facilitate their work, for example, we can devote our time or effort to support them.

(B) Choose the correct Arabic translation:

- Aswan Heart Centre was inaugurated in 2009 and helped many Egyptians with heart problems. It is a great example of charity.

(a) بدأ مركز أسوان للقلب فى عام ٢٠٠٩ وساعد الكثير من المصريين الذين يعانون من مشاكل بالقلب. إنه مثال على العمل الخيرى.

(b) افتتح مركز أسوان للقلب عام ٢٠٠٩ وساعد الكثير من المصريين الذين يعانون من مشاكل بالقلب. إنه مثال عظيم على العمل الخيرى.

(c) بدأ مركز أسوان للقلب عام ٢٠٠٩ وساعد الكثير من المصريين بمشاكل بالقلب. إنه مثال عظيم على العمل الإنسانى.

(d) افتتح مركز أسوان للقلب فى عام ٢٠٠٩ وساعد الكثير من المصريين الذين لديهم مشاكل بالقلب. إنه مثال عظيم على الجمعيات الخيرية.

4 Write an essay of about (150) words about the following:

How can we help find a solution to the problem of homeless people?

.....

.....

.....

.....

.....

.....

.....

.....

.....

.....

.....

.....

.....

.....

.....

.....

.....

.....

.....

.....

.....

.....

.....

.....

.....

.....

.....

Model (5)

1 Choose the Two correct answers of the Five options:

- The food is very limited. The synonyms of the word "limited" are ".....".
a) restricted b) familiar c) definite
d) deviating e) possible
- Can you help us the wall? It's our first time.
a) paint b) painting c) to paint
d) to painting e) paints

Choose the correct answer from a, b, c or d:

- Most compounds now try to establish the idea of the closed to attract people who seek privacy.
a) flats b) communities c) streets d) minds
- The analysis shows that your levels are low and you need to eat healthy food.
a) blood b) pressure c) hair d) iron
- The player performed some amazing to celebrate the goal he scored.
a) projects b) paintings c) sculptures d) movements
- The teacher read us some sentences with words, and we had to guess them.
a) missing b) mentioned c) known d) common
- The audiences were amazed at the characters on stage; they seemed stranger.
a) wide b) normal c) real d) exotic
- We couldn't calculate the between the two cities on Google Maps as there was no internet.
a) ribbon b) line c) distance d) meter
- I went to Hurghada and enjoyed doing lots of activities
a) underwater b) in the snow
c) under mountains d) in the fields
- The bird when it hit a big tree and fell.
a) flew b) flying
c) was flying d) was flown

11. whistling, I kicked the ball.
 a) During b) In c) Once d) When
12. She never her room when she woke up.
 a) tidies b) tidied c) tidy d) to tidy
13. Italian in some Egyptian schools nowadays.
 a) speaks b) is spoken c) is speaking d) speak
14. Laila every time she sees her father leaving the house.
 a) cry b) is crying c) cries d) cried
15. Never at his parents.
 a) is he shout b) isn't he shouting
 c) doesn't he shout d) does he shout
16. In the new system, the answers automatically.
 a) are marked b) marks c) mark d) do mark

2 Read the following passage, then answer the questions:

Television was invented by the scientist J.L. Baird. It is the first electronic appliance that can be used to watch movies, videos, TV shows, and much more. Children prefer to view the TV all the time because of the many entertaining cartoons they show us. Earlier, people used to resort to magazines and books as the only source of entertainment. However, now there are hundreds of options.

Today, there are many **exciting** programmes on television and many people look forward to watching them every day as a kind of entertainment. When there was no television, people used to buy magazines and papers to read. These were less expensive than books because books were not available like today.

Many famous writers wrote stories for magazines and papers. The writers wrote a part of the story each week. Just like today's television series, the stories usually ended with an exciting event, so that people wanted to know what happened next. To find out, **they** had to buy the next week's magazine. Famous British writers such as Wilkie Collins, Elizabeth Gaskell, Thomas Hardy, and Robert Louis Stevenson all wrote first for magazines. Charles Dickens was perhaps the most successful and when his stories came out, around 40,000 magazines were sold a month.

Choose the correct answer from a, b, c or d:

1. To read books today is than before.
 - a) more expensive
 - b) more difficult
 - c) cheaper
 - d) much easier
2. What does the word "exciting" mean?
 - a) Boring.
 - b) Silly.
 - c) Disgusting.
 - d) Interesting.
3. The underlined pronoun "they" refers to
 - a) writers
 - b) readers
 - c) books
 - d) magazines
4. What did people do to entertain themselves before the invention of television?
 - a) They bought books.
 - b) They bought newspapers and magazines.
 - c) They did nothing.
 - d) They bought stories and travel abroad.
5. People used to buy magazines because
 - a) there weren't other sources of entertainment
 - b) they were cheaper than books
 - c) they were funnier than books
 - d) both a&b
6. Magazine stories usually end with a/an
 - a) exciting event
 - b) boring event
 - c) sad event
 - d) none of the above
7. Charles Dickens was the best among the writers referred in the passage because
 - a) people bought his magazines a lot
 - b) he was a famous actor
 - c) his books used to be cheap
 - d) he had a programme on TV

3 (A) Choose the correct English translation:

- العمل التطوعي له فوائد عدة، منها أنه يعزز روح التعاون والعمل الجماعي بين أعضاء المجتمع.

- a) Voluntarism has several merits, containing that it strengthens a spirit of cooperation and teamwork among members of society.
- b) Voluntary work has several benefits, including that it reinforces the spirit of cooperation and teamwork among members of society.
- c) Charity work has several benefits, including that it reinforces a spirit of cooperation and teamwork between organs of society.
- d) Volunteering has several benefits, including that it reinforces a spirit of cooperation and teamwork between members of society.

(B) Choose the correct Arabic translation:

- Everyone has the potential to do amazing things if they are given the right support. They must believe in their abilities.

- a) الجميع لديهم الإمكانية ليصنعوا أشياء مذهلة إذا أعطوا المساندة المناسبة. فهم يجب أن يؤمنوا بقدراتهم.
- b) الجميع لديهم الإمكانية ليصنعوا أشياء مذهلة إذا أعطوا التشجيع المناسب. فهم يجب أن يصدقوا أنفسهم.
- c) كل فرد لديه القدرة على عمل أشياء مذهلة إذا أخذ المساندة الصحيحة. يجب أن يؤمن بقدراته.
- d) الجميع لديهم الإمكانية ليفعلوا أشياء مذهلة إذا أعطوا المساندة الجيدة. فهم يجب أن يؤمنوا بطاقتهم.

4 Write an essay of about (150) words about the following:

How to improve tourism in your city.

.....

.....

.....

.....

.....

.....

.....

.....

.....

.....

.....

.....

.....

.....

.....

.....

.....

.....

.....

.....

.....

.....

.....

الأخصاء



جغرافيا

الصف 1 الثانوى

مقترح النماذج الاسترشادية

لشهر أكتوبر

2024 - 2023م

نموذج (١)

(أ) اختر الإجابة الصحيحة من بين (١)، (ب)، (ج)، (د) فيما يلي:

- ١ تستخدم بعض البيوت البلاستيكية في الزراعة لإنتاج العديد من المحاصيل، فهي بذلك استفادت من دراسة الجغرافيا
 (١) الحيوية (ب) الجيومورفولوجيا (ج) المناخية (د) الإقليمية
 - ٢ تقطع دائرة عرض ٢٨° شمالاً المياه الإقليمية بين مصر و
 (١) السودان (ب) السعودية (ج) الأردن (د) اليونان
 - ٣ يمكن التعرف على أهم الأقاليم المناخية في قارة أستراليا من خلال
 (١) اتجاه الشمال (ب) مقياس الرسم (ج) إحداثيات الخريطة (د) مصدر الخريطة
 - ٤ تدخل دراسة مناطق انتشار الغابات في إقليم كتالونيا بإسبانيا ضمن مجالات
 (١) جغرافية التضاريس (ب) الجيومورفولوجيا (ج) الجغرافيا الحيوية (د) الجغرافيا الإقليمية
 - ٥ أى من العناصر التالية يساعدنا في تحديد النطاق الحرارى لمدينة أسوان على الخريطة ؟
 (١) مقياس الرسم (ب) إحداثيات الخريطة (ج) مصدر الخريطة (د) مفتاح الخريطة
 - ٦ أقرب الحدود المصرية الموازية لمدار السرطان تفصل بينها وبين دولة
 (١) ليبيا (ب) فلسطين (ج) السعودية (د) السودان
 - ٧ حدد أى خطوط الطول التالية يمر فى الأراضى المصرية والفلسطينية ؟
 (١) ٣٥° شرقاً (ب) ٣٦° شرقاً (ج) ٢٥° غرباً (د) ٣٠° غرباً
- (ب) أجب عن الأسئلة الآتية:

١ أمامك خريطة صماء لتضاريس الصحراء الغربية، ادرسها ثم أجب:

(١) حدد خط الطول الذى يقطعها من المنتصف

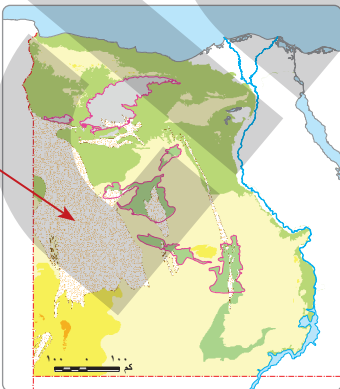
.....

(ب) حدد عنصر الخريطة الذى يوضح مدلول التظليل المشار إليه بالسهم

.....

٢ اشرح العلاقة بين موقع مصر الجغرافى وانتشار الإسلام.

.....

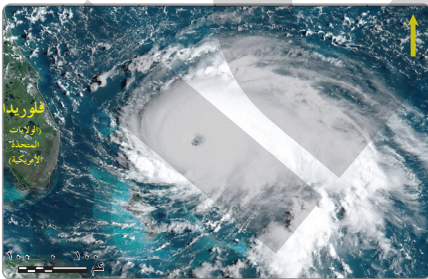


نموذج (٢)

(أ) اختر الإجابة الصحيحة من بين (أ)، (ب)، (ج)، (د) فيما يلي:

- ١ إذا وقفت عند التقاء دائرة عرض ٢٢° شمالاً مع خط طول ٢٥° شرقاً، فإنك بذلك تكون بالقرب من أحد جبال
 (أ) الصحراء الشرقية (ب) الصحراء الغربية (ج) شبه جزيرة سيناء (د) وادي النيل
- ٢ حدد: أولى المدن التالية إقطاعاً وإمساكاً في شهر رمضان
 (أ) السلوم (ب) السويس (ج) رفح (د) الإسكندرية
- ٣ أقرب المدن الساحلية المصرية لخط طول ٢٥° شرقاً
 (أ) رفح (ب) مطروح (ج) حلایب (د) السلوم
- ٤ يتفق توقيت رفع أذان الظهر بين بعض مدن المملكة الأردنية ومدينة
 (أ) بورسعيد (ب) رفح (ج) حلایب (د) السلوم
- ٥ يمكن التعرف على أسباب حدوث ظاهرة الليل والنهار والفصول الأربعة من خلال
 (أ) جغرافية التضاريس (ب) الجيومورفولوجيا
 (ج) الجغرافيا المناخية (د) الجغرافيا الفلكية
- ٦ دراسة الانكسارات والالتواءات كعوامل لتشكيل أشكال سطح الأرض أحد اهتمامات
 (أ) الجيومورفولوجيا (ب) الجغرافيا الحيوية
 (ج) الجغرافيا الفلكية (د) جغرافية التضاريس
- ٧ يفضل في حال اتجاه مصر لتحقيق تبادل تجارى برى مع بلاد جنوب ووسط إفريقيا استخدام منفذ
 (أ) سيوة (ب) أسوان (ج) الإسكندرية (د) رفح

(ب) أجب عن الأسئلة الآتية:



مرئية فضائية لإعصار الهريكين فوق المحيط الأطلنطي

١ (أ) حدد أى فرع من فروع الجغرافيا يهتم بمتابعة الظاهرة المقابلة.

.....

(ب) حدد التقنية الحديثة المستخدمة لإنتاج الشكل المقابل.

.....

٢ دلل على صحة العبارة: تسير الحدود الفلكية لمصر غالباً في مناطق غير مأهولة بالسكان.

.....

(أ) اختر الإجابة الصحيحة من بين (أ)، (ب)، (ج)، (د) فيما يلي:

- ١ أي مما يلي يخرج عن كونه أحد محتويات الخريطة؟
 (أ) مفتاح الخريطة (ب) مصدر الخريطة (ج) مقياس الرسم (د) إحداثيات الخريطة
 - ٢ نستطيع التأكد من البيانات والمعلومات التي تحتوى عليها الخريطة من خلال
 (أ) مفتاح الخريطة (ب) مقياس الرسم (ج) مصدر الخريطة (د) إحداثيات الخريطة
 - ٣ الاتصالات أحد المجالات التي تستخدم تقنية
 (أ) نظم المعلومات الجغرافية (ب) نظام تحديد المواقع العالمي
 (ج) الاستشعار من بعد (د) التصوير الجوي
 - ٤ لمعرفة أسباب اتجاه غرد أبو المحاريق من الشمال الغربى إلى الجنوب الشرقى فإننا نحتاج لدراسة فرع
 (أ) الجغرافية المناخية (ب) جغرافية التضاريس
 (ج) الجيومورفولوجيا (د) جغرافية البحار والمحيطات
 - ٥ أقصى امتداد شرقى لشبه جزيرة سيناء يقع عند مدينة
 (أ) العريش (ب) طابا (ج) رفح (د) شرم الشيخ
 - ٦ تمر السفن القادمة من أوروبا والمتجهة لدول الخليج أولاً بميناء
 (أ) بورسعيد (ب) السويس (ج) سفاجا (د) الإسمايلية
 - ٧ يتطلب معرفة التوقيت لدولة المغرب معرفة
 (أ) الموقع الجغرافى الخاص بها (ب) خطوط الطول الخاصة بها
 (ج) دوائر العرض الخاصة بها (د) المسطحات المائية الخاصة بها
- (ب) أجب عن الأسئلة الآتية:

١ استنتج العلاقة بين: موقع مصر الجغرافى واستقرار التبادل التجارى بين دول العالم.

٢ فسر: أهمية الخريطة فى حياتنا.

٣ ماذا يحدث إذا لم يتوصل العلم الحديث لاختراع نظام تحديد المواقع العالمى؟

(أ) اختر الإجابة الصحيحة من بين (أ)، (ب)، (ج)، (د) فيما يلي:

١ دراسة منطقة حشائش البرارى في شمال مصر من اهتمام فرع

(أ) جغرافية التضاريس

(ب) الجغرافيا الاقتصادية

(ج) الجغرافيا الحيوية

(د) الجغرافيا الإقليمية

٢ اتخذت الحكومة الأمريكية الإجراءات المناسبة للإنذار المبكر عن إعصار «كاترينا» أحد استخدامات التقنيات الحديثة

في مجال

(أ) الدراسات المناخية

(ب) الدراسات العمرانية

(ج) الدراسات العسكرية

٣ دراسة أثر التداخلات البركانية في تكوين جبل قطرانى بشمال الفيوم تقع ضمن اهتمامات

(أ) الجغرافيا التاريخية

(ب) جغرافية التضاريس

(ج) الجغرافيا الحيوية

(د) الجيومورفولوجيا

٤ إذا أردت معرفة أسباب ذوبان الجليد بالقطبين ، فأنت تحتاج للقراءة في كتاب عن

(أ) جغرافية التضاريس

(ب) الجيومورفولوجيا

(ج) الجغرافيا المناخية

٥ تجارو مصر ثلاث دول عربية عند حدها

(أ) الشمالى

(ب) الجنوبى

(ج) الشرقى

(د) الغربى

٦ ظاهرة جغرافية تمتد بالأراضى المصرية يقطعها مدار السرطان هى

(أ) قناة السويس

(ب) بحيرة السد العالى

(ج) البحيرات المرة

(د) جبل سانت كاترين

٧ إذا وقفت شرق رفح المصرية بمسافة تزيد على ٢ كم فأنت على أرض

(أ) سعودية

(ب) أردنية

(ج) مصرية

(د) فلسطينية

(ب) أجب عن الأسئلة الآتية:

١ دلل على أن السواحل الشمالية لمصر أكثر أهمية من السواحل الشرقية.

.....

٢ حدد أوجه الشبه والاختلاف بين جغرافية التضاريس والجيومورفولوجيا.

.....

٣ حدد العلاقة بين التقنيات الحديثة وتحقيق الأمن الغذائى.

.....

نموذج (هـ)

(أ) اختر الإجابة الصحيحة من بين (أ)، (ب)، (ج)، (د) فيما يلي:

- ١ أي من العناصر التالية يساعدنا في التعرف على طبيعة الغابات المنتشرة بقارة أمريكا الجنوبية على الخريطة؟
 - (أ) مقياس الرسم
 - (ب) إحداثيات الخريطة
 - (ج) مصدر الخريطة
 - (د) سهم اتجاه الشمال
- ٢ أي أساسيات الخريطة التالية يُستخدم لمعرفة المسافة الفعلية بينك وبين صديقك بدولة أخرى؟
 - (أ) مقياس الرسم
 - (ب) مصدر الخريطة
 - (ج) مفتاح الخريطة
 - (د) إحداثيات الخريطة
- ٣ (تقوم الدولة حالياً بإنشاء العديد من الكبارى والطرق البرية لربط أرجاء البلاد ببعضها). تشير العبارة السابقة إلى اهتمام الدولة بتطبيقات أحد فروع الجغرافيا وهو
 - (أ) جغرافية السكان
 - (ب) جغرافية العمران
 - (ج) الجغرافيا السياسية
 - (د) الجغرافيا الإقليمية
- ٤ في بداية مرحلة البحث والتنقيب عن آبار جديدة للبتروئ في الصحراء الغربية، أى التقنيات التالية نحتاج إليها؟
 - (أ) نظام تحديد المواقع العالمى
 - (ب) نظم المعلومات الجغرافية
 - (ج) خرائط استخدام الأرض
 - (د) الاستشعار من بعد
- ٥ القطاع التضاريسى المصرى الذى ينحصر بين دائرتى عرض ٢٨ درجة شمالاً و ٣١ ونصف درجة شمالاً هو
 - (أ) الدلتا
 - (ب) وادى النيل
 - (ج) الصحراء الغربية
 - (د) شبه جزيرة سيناء
- ٦ الحدود المصرية التى تجمع بين الأشقاء والأعداء هى الحدود
 - (أ) الجنوبية
 - (ب) الشمالية الشرقية
 - (ج) الجنوبية الغربية
 - (د) الغربية
- ٧ تمتد حدود مصر إلى خارج أراضيها عند الحد
 - (أ) الشمالى الشرقى
 - (ب) الجنوبى الغربى
 - (ج) الغربى
 - (د) الشمالى

(ب) أجب عن الأسئلة الآتية:

١ حدد أوجه الشبه والاختلاف بين: الحد الغربى والحد الجنوبى لمصر.

.....

٢ استنتج العلاقة بين: علم الطب والجغرافيا الطبية.

.....

٣ ما العلاقة بين: حماية حدود الدولة والاستشعار من بعد؟

.....

الأخصاء



التاريخ

الصف 1 الثانوى
مقترح النماذج الاسترشادية
لشهر أكتوبر

2024 - 2023م

نموذج (١)

(أ) اختر الإجابة الصحيحة من بين (أ)، (ب)، (ج)، (د) فيما يلي:

١ آخر الحضارات القديمة التي سقطت كانت جزءاً من قارة

(أ) أوروبا (ب) إفريقيا (ج) أمريكا (د) آسيا

٢ نستنتج من مفهوم «ول ديورانت» للحضارة أن الحضارة عبارة عن نظام يتسم بالسمة

(أ) السياسية (ب) الاقتصادية (ج) الاجتماعية (د) الدينية

٣ التوسع العمراني في مصر حالياً بكل مظاهره يؤكد تفسير مفهوم الحضارة وفقاً ل.....

(أ) أفلاطون (ب) ول ديورانت (ج) هوميروس (د) أرسطو

٤ عن أي جانب من جوانب الحضارة تعبر الصورة المقابلة؟

(أ) الثقافي (ب) المادى

(ج) المعنوى (د) الأدبى

٥ تتفق المصادر الأولية مع المصادر الثانوية في

(أ) معاصرتهم للأحداث (ب) أنهما من صنع الإنسان

(ج) سهولة الحصول عليهما (د) تميزهما بالدقة

٦ اتسم المصرى القديم بحسن التصرف والقدرة على إيجاد البديل الذى يحقق الغرض». تتضح هذه السمة من خلال

استخدامه

(أ) الأوستراكا (ب) بردية إبيرس (ج) حجر بالرمو (د) الإلياذة والأوديسة

٧ «اللبنة الأولى في بناء الحضارة المصرية القديمة كانت الوحدة بين البلاد». في ضوء العبارة السابقة كان العامل

الأساسى الذى ساعد على تحقيق الوحدة في مصر القديمة هو

(أ) الحدود الآمنة (ب) نهر النيل (ج) المناخ المعتدل (د) الجيش المصرى القديم

(ب) أجب عن الأسئلة الآتية:

١ «عملت بعض أحداث التاريخ المعاصر على حل بعض مشكلات العصور الحديثة». ما مدى مصداقية هذه العبارة؟

.....

٢ دلل تاريخياً على صحة العبارة الآتية: «لعبت النقود والمسكوكات دوراً في التعرف على العديد من مظاهر الحضارة الإنسانية».

.....

٣ تُعد الحدود الطبيعية بمثابة الدرع الواقية للمصريين . فسر العبارة.

.....

.....

.....

نموذج (٢)

(أ) اختر الإجابة الصحيحة من بين (أ)، (ب)، (ج)، (د) فيما يلي:

- ١ من وجهة نظر «ول ديورانت» تظهر لدى الإنسان دوافع التطوع والإبداع والإنشاء لتكوين حضارة عظيمة عندما
(أ) يفكر في الماضي (ب) ينهض بالصناعة (ج) يهاجر من مكان لآخر (د) يشعر بالطمأنينة
 - ٢ «قامت العديد من الحروب بين الإمبراطورية الفارسية والإمبراطورية الرومانية اللتين كانتا تمثلان أعظم حضارات العالم القديم». هذه العبارة تعبر عن مفهوم
(أ) التماسك الحضارى (ب) التواصل الحضارى (ج) التنوع الحضارى (د) الصراع الحضارى
 - ٣ «حرص المصريون طوال تاريخهم على تنمية الوحدة الوطنية بينهم كمسلمين ومسيحيين». تدل هذه العبارة على قدرة المصريين على
(أ) استخلاص العبر (ب) إبراز القدوة الصالحة (ج) حل مشكلات المجتمع (د) الابتعاد عن التعصب
 - ٤ حملت العصور الحديثة في طياتها بشكل واضح العديد من الأحداث التي اتسمت بالسمة
(أ) الدينية (ب) الأدبية (ج) الاقتصادية (د) الاجتماعية
 - ٥ تتفاوت أهمية مصادر دراسة الحضارات تبعاً لـ
(أ) لون المصدر (ب) نوع المصدر (ج) حجم المصدر (د) شكل المصدر
 - ٦ دراسة المادة المصنوعة منها العملة يمكن من خلالها أن نستنتج
(أ) الحالة السياسية (ب) الحالة الاقتصادية (ج) الحالة الاجتماعية (د) الحالة الثقافية
 - ٧ تعد الآثار المصدر الرئيسى لدراسة الحضارات المختلفة، وتتميز بـ
(أ) الغموض (ب) الدقة (ج) المبالغة (د) الخيال
- (ب) أجب عن الأسئلة الآتية:

١ دلل على صحة العبارة الآتية: «العلاقة بين الأمن وقيام الحضارات علاقة طردية».

.....
.....

٢ ما العلاقة بين كل من حجر بالرمو وصلاية الملك نعرمر وبين أنواع النقوش؟

.....
.....

٣ «برع المصريون القدماء في مختلف نواحي الحياة المختلفة ومنها الجانب الطبى». دلل تاريخياً على صدق هذه العبارة.

.....
.....

(أ) اختر الإجابة الصحيحة من بين (أ)، (ب)، (ج)، (د) فيما يلي:

١ أحد المصادر التاريخية ذات الأهمية من الناحية العلمية

(أ) الإلياذة والأوديسة (ب) قائمة الكرنك (ج) بردية إيبرس (د) حجر بالرمو

٢ يعد العامل الأساسي لنشور الحضارة المصرية القديمة في العالم

(أ) الموقع المتوسط (ب) نهر النيل (ج) اعتدال المناخ (د) وفرة الثروات الطبيعية

٣ العلاقة بين الحدود الطبيعية لمصر وتمتع مصر بالأمن في بعض حدودها علاقة

(أ) عكسية (ب) ارتباطية (ج) تناقض (د) تضاد

٤ شكلت الحدود الشمالية الشرقية لمصر على مر التاريخ مصدرًا لـ

(أ) العلاقات الاجتماعية (ب) الثروات المعدنية (ج) الخطر والغزو الخارجي (د) الأمن والاستقرار

٥ أي من هذه العوامل لم يكن عاملاً مساعداً في ازدهار حركة التجارة الداخلية في مصر الفرعونية؟

(أ) اختراع العملة (ب) تنوع المحاصيل (ج) نهر النيل (د) تنوع المناخ

٦ من خلال دراستك لعوامل قيام الحضارات يتضح أن العلاقة بين العوامل الطبيعية والبشرية علاقة

(أ) تكامل (ب) تناقض (ج) تنافر (د) تصارع

٧ ساعد مناخ مصر الجاف على

(أ) تنوع الغلات (ب) قوة البنين (ج) الرخاء الاقتصادي (د) حماية الآثار

(ب) أجب عن الأسئلة الآتية:

١ ماذا كان يحدث إذا لم يجرنهر النيل في مصر؟

.....
.....

٢ حدد الأثر الناتج عن الموقع الجغرافي المتميز لمصر؟

.....
.....

٣ ما العلاقة بين طمى النيل وعملية التعلم عند المصريين القدماء؟

.....
.....

نموذج (٤)

(أ) اختر الإجابة الصحيحة من بين (أ)، (ب)، (ج)، (د) فيما يلي:

- ١ العامل الأساسي الذي كان دافعاً للمصريين القدماء على الاتحاد هو
 (أ) نهر النيل
 (ب) عدم وجود حواجز طبيعية .
 (ج) انبساط أرض مصر
 (د) المنافع الشخصية
 - ٢ سقطت مصر في يد الهكسوس عام ١٧٣٠ ق.م نتيجة
 (أ) الصراعات السياسية
 (ب) الأزمة الاقتصادية
 (ج) الثورة الدينية
 (د) الثورة الاجتماعية .
 - ٣ «ول ديورانت» يعتبر أن الحضارة عبارة عن نظام يتسم بالسمة
 (أ) الاجتماعية
 (ب) السياسية
 (ج) الاقتصادية
 (د) الدينية
 - ٤ قام المؤرخون بتقسيم العصور التاريخية إلى أربعة أقسام، وقد اعتمدوا في هذا التقسيم على
 (أ) التطورات الدينية
 (ب) الإنجازات السياسية .
 (ج) الأحداث الطبيعية
 (د) الإنجازات الحضارية
 - ٥ تختط مظاهر الحضارة نطاق محيط الكرة الأرضية في
 (أ) العصور القديمة
 (ب) العصور الوسطى
 (ج) العصور الحديثة
 (د) التاريخ المعاصر
 - ٦ تمثل العنصر المحرك للأحداث في العصور الحديثة في
 (أ) قيام الثورة الصناعية
 (ب) حركة الكشوف الجغرافية
 (ج) قيام حركة الاستعمار
 (د) ظهور النهضة الأوربية
 - ٧ تسعى دراسة التاريخ إلى تحقيق الوحدة والتضامن من خلال
 (أ) الابتعاد عن التعصب
 (ب) إبراز القدوة الصالحة
 (ج) تنمية الشعور بالمسئولية
 (د) استخلاص العبر من تاريخ الأمم
- (ب) أجب عن الأسئلة الآتية:

١ ما العلاقة بين نهر النيل ومناخ مصر، والنشاط التجاري في مصر القديمة؟

٢ من خلال دراستك حدد: أى من المصادر الأولية عبرت عن النظام الطبقي في مصر القديمة، موضحاً استخداماتها لدى المصريين القدماء؟

٣ «كان الشرق والغرب على طرفي نقيض في العصور الوسطى». أثبت صحة العبارة السابقة تاريخياً.

نموذج (هـ)

(أ) اختر الإجابة الصحيحة من بين (أ)، (ب)، (ج)، (د) فيما يلي:

- ١ أي من المصادر التاريخية الآتية كان الهدف منه تسجيل الأحداث التاريخية؟
 (أ) النقوش (ب) المسكوكات (ج) الأوستراكا (د) كتابات الفلاسفة
 - ٢ التفوق الحضارى للشرق على الغرب يعود لفترة العصور.....
 (أ) القديمة والوسطى (ب) الوسطى والحديثة (ج) الحديثة والمعاصرة (د) المعاصرة والقديمة
 - ٣ ساعد نهر النيل المصريين القدماء في الحفاظ على مواردهم من خلال مبدأ.....
 (أ) لتكامل (ب) التكافل (ج) التواصل (د) التضامن
 - ٤ عند دراستنا للحضارة المصرية القديمة وجدنا أنها قامت على عقول وجهود أبنائها، مما يمنحها خاصية.....
 (أ) الأصالة (ب) القدم (ج) التقدم (د) الاستمرارية
 - ٥ لمصر حدود سياسية، منها ما اعتبره المصريون القدماء خط دفاع عن البلاد، تمثل ذلك في اتجاه.....
 (أ) الشمال الشرقى (ب) الشمال الغربى (ج) الجنوب الشرقى (د) الجنوب الغربى
 - ٦ بدأت الحضارة الإنسانية في الشرق وانتقلت لليونان والرومان وعادت إلى الشرق ثم انتقلت مرة ثانية ومع ذلك تميزت كل حضارة ب.....
 (أ) موقعها الجغرافى (ب) عاداتها وثقافتها وعقائدها
 (ج) التواصل مع الحضارات (د) نشاطها التجارى
 - ٧ من آراء ول ديورانت « أن الحضارة تبدأ مع انتهاء الاضطراب والقلق وتحقيق الاستقرار والأمن». يمكن تطبيق الرأى السابق قديماً فى.....
 (أ) عصر الانتقال الأول (ب) عصر الأسرات من ١٣-١٧
 (ج) عصر الأسرات من ١٨-٢٠ (د) العصر المتأخر
- (ب) أجب عن الأسئلة الآتية:

١ دلل تاريخياً على صحة العبارة الآتية: « لعبت النقود والمسكوكات دوراً هاماً في التعرف على العديد من مظاهر الحضارة الإنسانية.»

.....


٢ ما وجه الارتباط بين حركة الكشوف الجغرافية وحركة الاستعمار الأوربي؟

.....

٣ « لدراسة التاريخ أهمية كبيرة فى حياة المجتمع ». وضح ذلك.

.....

الأخصاء



اللغة العربية

الصف 1 الثانوى

الإجابات النموذجية للنماذج الاسترشادية لشهر أكتوبر
العام الدراسى

2024 - 2023

إجابة النموذج الأول

١- (ب)

٢- (ج)

٣- «ذلك لأن ما قبل هذا التاريخ في الشعر العربي مجهول».

٤- (د)

٥- (أ)

٦- (ج)

٧- الخطبة - الاعتماد على الجمل القصيرة والمعاني القريبة - الاعتماد على الإقناع والإمتاع.

٨- (ب)

٩- (أ)

١٠- سرالجمال التوضيح.

١١- (ج)

١٢- (ب)

١٣- (أ)

١٤- (ج)

١٥- أجب بنفسك.

إجابة النموذج الثاني

١- (أ)

٢- (ج)

٣- اتخاذ القدوة الصالحة والتأسي بها والافتداء بمنهجها.

٤- (أ)

٥- (ج)

٦- (أ)

٧- (د)

٨- الإيجاز وجمال الصياغة ووضوح المعنى.

٩- (أ)

١٠- الحب الشديد لمصر.

١١- (ج)

١٢- (أ)

١٣- (ب)

١٤- (أ)

١٥- أجب بنفسك.

إجابة النموذج الثالث

١- (ب)

٢- (أ)

٣- «تردَّى اللغة العربية جاء على يد الإعلام الذى يستخدم ألفاظًا غير مقبولة».

٤- (ب)

٥- (ج)

٦- (أ)

٧- (أ)

٨- الفخر.

٩- (ب)

١٠- يتحسر الشاعر على فراق ابنه؛ لأنه اختفى، فأصبحت زيارته فى قبره ممكنة، ولكن ابنه بعيد فى الآخرة لا يمكن رؤيته، والموت نفذ تهديده، وآماله التى كان يعلقها فى ابنه قد انتهت، ويعبر عن قسوة المرض حتى الموت؛ فلقد استمر النزيف حتى حوَّله من اللون الأحمر الذى يشبه الورد إلى اللون الأصفر الذى يشبه الزعفران.

١١- (ب)

١٢- (أ)

١٣- (أ)

١٤- (ج)

١٥- أجب بنفسك.



English

الصف **1** الثانوي

الإجابات النموذجية للنماذج الاسترشادية شهر أكتوبر
العام الدراسي

2023 - 2024

Answers Model (1)

1 Choose the Two correct answers of the Five options:

1. **b)** continual / **d)** lasting
2. **b)** take / **c)** make

Choose the correct answer from a, b, c or d:

- | | |
|------------------------|-------------------------|
| 3. d) charity | 10. b) was doing |
| 4. c) stuck | 11. b) agreement |
| 5. b) pressure | 12. d) will |
| 6. a) income | 13. a) operates |
| 7. b) balcony | 14. b) was |
| 8. c) ecosystem | 15. a) left |
| 9. b) stood | 16. a) scrolling |

2 Read the following passage, then answer the questions:

1. **b)** business, enjoyment or fun
2. **d)** their stay lasts for more than 12 months
3. **a)** Taking photos at airports
4. **b)** their journey is meant to earn money
5. **c)** It provides a large number of jobs
6. **a)** tourism industry
7. **b)** What is Tourism

3 (A) Choose the correct English translation:

- b)** Yesterday, I travelled to Cairo to see my old friends; we had a good time together. We had walked around the streets of Old Cairo a lot before they got me to the train station.

(B) Choose the correct Arabic translation:

- d)** بمجرد وصولك لمصر ستشعر بدفء سكانها المحليين سواء كنت صغيراً، أم كبيراً أو في منتصف العمر، متقاعدًا أو مجرد شخص مغامر.

4 Write an essay of about (150) words about a journey you had as an ecotourist.

Student's own answer.

Answers Model (2)

1 Choose the Two correct answers of the Five options:

1. c) hopelessness / e) despair
2. b) looking / e) searching

Choose the correct answer from a, b, c or d:

- | | |
|-------------------|-----------------------|
| 3. b) appearance | 10. b) goes |
| 4. c) Villagers | 11. c) is painted |
| 5. c) trek | 12. a) is not allowed |
| 6. b) transfusion | 13. b) use to |
| 7. a) swell up | 14. d) know |
| 8. b) others | 15. d) Does/have |
| 9. b) used | 16. d) happens |

2 Read the following passage, then answer the questions:

1. d) All mentioned
2. b) friends are very important for both our physical and mental health
3. c) help bring peace and avoid war
4. d) all mentioned
5. b) doesn't change
6. c) psychological
7. b) friendship

3 (A) Choose the correct English translation:

- d) Millions of pounds are spent yearly on education as we realise that reforming it is an absolute necessity which can't be delayed. The civilisation of any nation is built on education.

(B) Choose the correct Arabic translation:

- a) إن محمد صلاح ليس مجرد لاعب كرة قدم يلعب ويحرز أهدافاً، إنه عضو مؤثر فى المجتمع، حيث إنه دائماً ما يساعد أهل قريته بمصر.

Answers Model (3)

1 Choose the Two correct answers of the Five options:

1. **b)** interesting / **c)** exciting
2. **b)** went away / **d)** left

Choose the correct answer from a, b, c or d:

- | | |
|-------------------------|----------------------------|
| 3. d) brilliant | 10. b) was watching |
| 4. a) cattle | 11. d) am not |
| 5. b) ability | 12. d) lived |
| 6. b) role model | 13. c) don't attend |
| 7. d) remote | 14. a) is designed |
| 8. d) regulate | 15. a) examined |
| 9. a) guardian | 16. c) was studying |

2 Read the following passage, then answer the questions:

1. **a)** People above 12.
2. **b)** can offer to feed poor people instead
3. **c)** an exercise in self-control
4. **a)** before the dawn
5. **c)** celebrating
6. **b)** allowed to follow Mecca timings
7. **d)** avoid bad actions

3 (A) Choose the correct English translation:

- d)** The elephant is considered one of the biggest organisms in the world. It weighs 5-8 tons, but it's a domestic animal and not aggressive at all.

(B) Choose the correct Arabic translation:

- b)** الكثير من المعنيين بالحفاظ على البيئة يعملون بجد ليحافظوا عليها، ويجب على الناس أن يعوا واجباتهم تجاه النظام البيئي وكيفية الحفاظ عليه أمنًا ونظيفًا.

4 Write an essay of about (150) words about the role of businessmen in helping society.

Student's own answer.

Answers Model (4)

1 Choose the Two correct answers of the Five options:

1. a) demerits / c) drawbacks

2. c) from/ e) against

Choose the correct answer from a, b, c or d:

3. a) isolated

4. a) chance

5. a) environment

6. b) stressed

7. a) moon

8. c) paw

9. b) monitoring

10. d) travelled

11. b) On

12. c) is always late

13. a) Are Tanta trains

14. d) had

15. b) filling

16. d) was having

2 Read the following passage, then answer the questions:

1. d) praise

2. c) ancient pictures

3. d) All mentioned

4. b) referee

5. b) Sports in Ancient Egypt

6. c) paintings on museums' walls

7. a) teammates

3 (A) Choose the correct English translation:

c) There are charities specialised in helping the poor and orphans all over the country. We should cooperate to facilitate their work, for example, we can share our time or effort to support them.

(B) Choose the correct Arabic translation:

b) افتتح مركز أسوان للقلب عام ٢٠٠٩ وساعد الكثير من المصريين الذين يعانون من مشاكل بالقلب. إنه مثال عظيم على العمل الخيري.

4 Write an essay of about (150) words about the following:

Student's own answer.

Answers Model (5)

1 Choose the Two correct answers of the Five options:

1. a) restricted/ c) definite
2. a) paint / c) to paint

Choose the correct answer from a, b, c or d:

3. b) communities
4. d) iron
5. d) movements
6. a) missing
7. d) exotic
8. b) distance
9. a) underwater
10. c) was flying
11. d) When
12. b) tidied
13. b) is spoken
14. c) cries
15. d) does he shout
16. a) are marked

2 Read the following passage, then answer the questions:

1. d) much easier
2. d) Interesting
3. b) readers
4. b) They bought newspapers and magazines.
5. d) both a&b
6. a) exciting event
7. a) people bought his magazines a lot

3 (A) Choose the correct English translation:

- b) Voluntary work has several benefits, including that it reinforces the spirit of cooperation and teamwork among members of society.

(B) Choose the correct Arabic translation:

- a) الجميع لديهم الإمكانية ليصنعوا أشياء مذهلة إذا أعطوا المساندة المناسبة. فهم يجب أن يؤمنوا بقدراتهم.

4 Write an essay of about (150) words about the following:

Student's own answer.

الأخضر
الصفحة



جغرافيا

الصف 1 الثانوي

الإجابات النموذجية للنماذج الاسترشادية

لشهر أكتوبر

2024 - 2023م

اجابة النموذج الاول

(١)

- ١ (ج) ٢ (ب) ٣ (ج) ٤ (ج)
٥ (ب) ٦ (د) ٧ (١)

(ب)

١ (١) خط طول ٢٨° شرقًا. (ب) مفتاح الخريطة.

٢ ساهم موقع مصر الجغرافى فى نقل الإسلام والحضارة الإسلامية إلى شمال إفريقيا وصولاً إلى ساحل المحيط الأطلنطى، كما ساهم فى نقل الدين الإسلامى إلى السودان ووسط إفريقيا عبر نهر النيل.

اجابة النموذج الثانى

(١)

- ١ (ب) ٢ (ج) ٣ (د) ٤ (ج)
٥ (د) ٦ (١) ٧ (ب)

(ب)

١ (١) جغرافية المناخ. (ب) الاستشعار من بعد.

٢ العبارة صحيحة؛ حيث تسير الحدود الغربية لمصر فى الصحراء الغربية قاطعة هضبة شمال إفريقيا وبحر الرمال العظيم وجبل العوينات، وهى مناطق شبه خالية من السكان، وكذلك الحدود الجنوبية لمصر تقطع الصحراء الشرقية والصحراء الغربية، وأيضاً حدود مصر الشمالية الشرقية التى تقطع صحارى شبه جزيرة سيناء.

اجابة النموذج الثالث

(١)

- ١ (ب) ٢ (ج) ٣ (ب) ٤ (ج)
٥ (ب) ٦ (١) ٧ (ب)

(ب)

١ ساعد موقع مصر الجغرافى على سيطرتها على طرق التجارة العالمية، فساهم الاستقرار السياسى لمصر فى رواج حركة التجارة بين دول العالم المختلفة.

٢ تساعد الخريطة قائد السفينة وقائد الطائرة والجندي فى معرفة الاتجاهات.

- يستخدمها الطالب فى دراسته للجغرافيا.

- تستخدم كلغة مختصرة تنقل العديد من المعلومات.

- تساعد على حل بعض المشكلات وتفسير الظواهر الجغرافية.

- تساعد على فهم العلاقات المكانية.

٣ لأصبحت عملية التنقل على سطح الأرض أكثر صعوبة عما هى عليه الآن، كما سنواجه عدة صعوبات فى العديد من المجالات مثل: المجال العسكرى، الملاحة الجوية، المجال البحرى، النقل والشحن، الاتصالات.

اجابة النموذج الرابع

(١)

- ١ (ج) ٢ (١) ٣ (د) ٤ (ج)
٥ (ج) ٦ (ب) ٧ (د)

(ب)

١ حيث تتسم السهول الساحلية الشمالية بالاتساع ومقابلتها لأهم وأكبر المراكز الصناعية فى العالم (الدول الأوربية) على عكس الساحل الشرقى الضيق؛ بسبب اقتراب جبال البحر الأحمر من الشاطئ.

٢ أوجه الشبه: كلا الفرعين يدرسان الظواهر الطبيعية لسطح الأرض.

أوجه الاختلاف: تدرس جغرافية التضاريس مظاهر سطح الأرض فى وضعها الموجود حالياً، لكن الجيومورفولوجيا تدرس العوامل التى ساهمت فى تشكيل مظاهر سطح الأرض المختلفة.

٣ تساعد التقنيات الحديثة فى التعرف على المناخ والتنبؤ بالتقلبات المناخية، مما يساعد على زراعة المحاصيل المناسبة فى الأماكن المناسبة مناخياً، مما يؤدى إلى زيادة الإنتاج الزراعى، ومن ثم المساهمة فى تحقيق الأمن الغذائى.

اجابة النموذج الخامس

(١)

- ١ (ب) ٢ (١) ٣ (ب) ٤ (د)
٥ (د) ٦ (ب) ٧ (د)

(ب)

١ أوجه الشبه: أن كلا الحدين حدان بريان فلكيان. أوجه الاختلاف: يعرج الحد الغربى لمصر فى جزئه الشمالى، لكن الحد الجنوبى هو حد مستقيم بالكامل.

٢ تساعد الجغرافيا الطبية فى فهم العلاقة المكانية بين الأمراض والأوبئة وأماكن انتشارها، كما تساهم فى تحديد أماكن وضع مراكز الرعاية الطبية لتضمن التغطية الشاملة لكافة المواطنين.

٣ يساهم الاستشعار من بعد فى مراقبة الحدود السياسية كما يساعد على تنفيذ الكثير من المهام العسكرية مثل:

- التجسس والاستطلاع

- الإنذار المبكر ورصد وتوجيه الصواريخ.

الأخصاء



التاريخ

الصف 1 الثانوى

الإجابات النموذجية للنماذج الاسترشادية

لشهر أكتوبر

2024 - 2023م

اجابة النموذج الاول

(١)

- ١ (ا) ٢ (ج) ٣ (ب) ٤ (ب)
٥ (ب) ٦ (ا) ٧ (ب)

(ب)

- ١ العبارة صادقة؛ حيث تم خلال التاريخ المعاصر حل مشكلة الاستعمار الأوربي بظهور حركات التحرر والاستقلال من الاستعمار.
٢ حيث يمكن من خلال النقود والمسكوكات تحديد العصور التاريخية والحالة الاقتصادية والأحداث السياسية وصور الملوك والحكام.
٣ لأن هذه الحدود التي تمثلت في (الصحراوات في الشرق والغرب والجنادل التي في الجنوب والبحر المتوسط في الشمال والبحر الأحمر في الشرق) ساعدت المصريين في الدفاع عن بلادهم ضد المعتدين والطامعين في خيراتها ومن ثم حققت قدرًا من الأمن والاستقرار.

اجابة النموذج الثاني

(١)

- ١ (د) ٢ (د) ٣ (د) ٤ (ج)
٥ (ب) ٦ (ب) ٧ (ب)

(ب)

- ١ حيث لا يمكن أن تقوم الحضارة إلا إذا توافر فيها الأمن والاستقرار اللذان يسهمان في تطور تفكير الإنسان وإبداعه.
٢ تتمثل العلاقة في أن حجر الرمو من النقوش الغائرة في حين أن صلاية نعمر من النقوش البارزة.
٣ العبارة صادقة حيث تعد بردية إبيرس أقدم مخطوطة علمية في مجال الطب وتعد مرجعًا مهمًا في أمراض الباطنة والعيون والجلد والأطراف والنساء وبعض الجراحات.

اجابة النموذج الثالث

(١)

- ١ (ج) ٢ (ا) ٣ (ب) ٤ (ج)
٥ (ا) ٦ (ا) ٧ (د)

(ب)

- ١ ربما فقدت الحضارة المصرية الكثير من عوامل قيامها مثل الوحدة والتضامن والتكامل والتكافل والتواصل فيما بين المصريين ومع الآخرين وما كانت الحضارة المصرية لتصل لما وصلت إليه من ازدهار.
٢ تسهيل اتصالاتها بالحضارات الأخرى في قارات العالم القديم ومن ثم كان الموقع الجغرافي أحد عوامل الحضارة المصرية القديمة.
٣ العلاقة في أن المصريين القدماء استخدموا طمي النيل في صناعة الفخار الذي تحول إلى أوستراكا استعملها المصري القديم في الكتابة.

اجابة النموذج الرابع

(١)

- ١ (ا) ٢ (ا) ٣ (ا) ٤ (د)
٥ (د) ٦ (ا) ٧ (ا)

(ب)

- ١ علاقة ارتباطية؛ حيث إن المناخ المعتدل ساعد على تنوع المحاصيل الزراعية، فتبادل المصريون تلك المحاصيل من خلال نهر النيل؛ مما أدى إلى زيادة النشاط التجاري في مصر القديمة.
٢ تعتبر الأوستراكا من أهم المصادر الأولية التي عبرت عن النظام الطبقي للمصريين القدماء؛ وذلك لأنها كانت المادة الأساسية المستخدمة من جانب الطبقة المتوسطة والفقيرة في تحرير الإيصالات والخطابات وفي التعاملات اليومية المختلفة
٣ عبارة صحيحة؛ حيث إنه كانت بلاد الشرق تزهر بالحضارة الإسلامية وكثرة الفتوحات، وعلى الطرف الآخر في الغرب ساد نظام الإقطاع وسيطرت الكنيسة على جميع نواحي الحياة وانتشر الجهل والتخلف.

اجابة النموذج الخامس

(١)

- ١ (ا) ٢ (ا) ٣ (د) ٤ (ا)
٥ (ا) ٦ (ب) ٧ (ج)

(ب)

- ١ العبارة صحيحة؛ حيث وثقت النقود والمسكوكات العديد من المعلومات عن الحضارة الإنسانية؛ فيمكن من خلال العملات التعرف على الحالة الاقتصادية للدولة من خلال وزن العملة والمعدن المستخدم في صناعتها، وكذلك الحياة السياسية من خلال صور الملوك والأمراء.

- ٢ يتمثل وجه الارتباط في أن حركة الكشوف الجغرافية التي قام بها الأوربيون أدت إلى قيامهم باستعمار البلاد المكتشفة مثل الأمريكتين وأستراليا، ومن ثم قاموا باستغلال موارد هذه البلاد.

٣ تتمثل في:

- استخلاص العبر من تاريخ الأمم السابقة.
- تنمية الشعور بالمسئولية في المحافظة على المكاسب التي حققها المجتمع والمضى بها قدمًا للأمام، والمساهمة في حل مشكلاته.
- إبراز القدوة الصالحة من الشخصيات التاريخية التي تركت بصمات واضحة على شعوبها؛ ليقفدى بها الإنسان، مثل: الرسول ﷺ وصلاح الدين الأيوبي.
- الابتعاد عن التعصب؛ فدراسة علم التاريخ تبين أن العالم لم يقم على حضارة واحدة، وأول لغة واحدة، فلكل أمة فضلها على الإنسانية الذي لا ينكره التاريخ.