

مراجعة الشاطر على امتحان أكتوبر ٢٠٢٢

الراعي الرسمي للاختبارات في مصر

4

الدراسات الاجتماعية الصف الرابع الابتدائي



#الشاطر_نزل_اطبع



(أولاً) مراجعة الوحدة الأولى : بلدنا ورموزه الوطنية

ملخص الدرس الأول : أدوات تحديد المواقع



عناصر الخريطة

خطوط الطول

- تتخذ شكلاً رأسياً لتحديد الموقع شرق وغرب خط الطول الرئيسي .

دوائر العرض

- تتخذ شكلاً أفقياً لتحديد الموقع شمال وجنوب دائرة الاستواء .

مفتاح الخريطة

- يوضح مدلول ومعنى الألوان والرموز الموجودة على الخريطة .

مقياس الرسم

- هو النسبة بين المسافة على الخريطة وما يقابلها على الطبيعة .

عنوان الخريطة

- يشير إلى المعلومات الواردة على الخريطة .

وردة البوصلة

- توضح الاتجاهات الأصلية والفرعية .

الصور الفضائية

- هي الصور التي يتم التقاطها باستخدام الأقمار الصناعية .

الصور الجوية

- هي الصور التي يتم التقاطها من الجو باستخدام الطائرات .

الخريطة

- رسم توضيحي لسطح الأرض أو جزء منه باستخدام مجموعة من الرموز والألوان ومقياس رسم محدد .

من الأدوات التي تساعدنا على معرفة موقع الأماكن



ملخص الدرس الثاني : المصادر الأولية والمصادر الثانوية

أولاً : قناة السويس

٣ - قناة السويس الجديدة

- زادت أهمية موقع مصر في التجارة الدولية بعد حفر قناة السويس الجديدة عام ٢٠١٥ م.

٢ - قناة السويس

- أهم ممر ملاحي عالمي ، تربط بين البحرين الأحمر والمتوسط .
- حفرت بسواعد المصريين تحت إشراف مهندسين فرنسيين ، وتم افتتاحها عام ١٨٦٩ م.

١ - قناة سينوستريس

- هي قناة ربطت بين البحر الأحمر والمتوسط عن طريق نهر النيل .
- تم حفرها في عهد الملك سنوسرت الثالث .

ثانياً : مصادر المعلومات

٢ - الثانوية

- كل ما تم تدوينه بعد مرور زمن طويل منذ وقوع الحدث ، وغالباً ما يستند إلى المصادر الأولية ، مثل : الكتب - المقالات - الموسوعات - الأبحاث .

١ - الأولية

- كل ما تم نقشه أو تدوينه سواء من قِبل أشخاص عاصروا الحدث أو شاركوا فيه ويرتبط بزمن وقوع الحدث ، مثل : الصور - المخططات - الوثائق الرسمية - النقوش والبرديات .

ثالثاً : الحقيقة والرأي

٢ - الرأي

- هو التعبير عما يشعر به أو يفكر فيه شخص ما تجاه موضوع معين ، وقد يكون صحيحاً أو خطأ .

١ - الحقيقة

- هي معلومات أو أحداث تم إثبات صحتها والتأكد من دقتها ، وتسم بالدقة والموضوعية ، ونادراً ما تكون غير صحيحة .

ملخص الدرس الثالث : موقع مصر بالنسبة إلى العالم



المحيطات

- مساحات واسعة من الماء المالح ذات أعماق كبيرة .

القارات

- مساحات واسعة من اليابس تضم عددًا من الدول .

موقع مصر الجغرافي

- تقع مصر في الركن الشمالي الشرقي من قارة إفريقيا .
- تحيط بمصر البحار من الشمال والشرق .
- يحيط بمصر اليابس من الغرب والجنوب .
- تقع مصر في قلب العالم القديم وقلب الوطن العربي .

أهمية موقع مصر الجغرافي

قديمًا

ساعد نهر النيل على

- قيام الزراعة .
- قيام الحضارة المصرية القديمة .
- ربط شمال مصر بجنوبها .
- ربط مصر بدول وسط إفريقيا .

ساعد موقع مصر الجغرافي على

- تسهيل الاتصال بجيرانها حضاريًا وتجاريًا .
- أصبحت مركزًا للتجارة بين الشرق والغرب .

حديثًا

- تضاعفت أهمية موقع مصر بعد حفر قناة السويس التي سهلت التجارة بين الشرق والغرب .

أهمية قناة السويس الجديدة

- زادت من أهمية موقع مصر .
- قللت زمن مرور السفينة في القناة من ٢٠ ساعة إلى ١١ ساعة .
- استوعبت سفنًا أكبر حجمًا ووزنًا وسهلت مرور السفن في الاتجاهين .



ملخص الدرس الرابع : محافظات مصر





ملخص الدرس الخامس : علم مصر

ثانيًا : مظاهر احترام العلم

• إهانة العلم المصري جريمة يعاقب عليها القانون .

السلوكيات التي تعبر عن احترام العلم :

- الوقوف باحترام أثناء تحية العلم .
- المحافظة عليه ورفعته عاليًا .
- عدم الكتابة أو الرسم عليه .
- عدم لمس الأرض أو ابتلاله بالماء .
- عدم تمزيقه أو حرقه .

النشيد الوطني :

- تأليف : محمد يونس القاضي .
- تلحين : سيد درويش .

ثانيًا : أماكن وجود علم مصر

• يرفع في جميع أنحاء البلاد ، مثل :

- الوزارات .
- الهيئات .
- المؤسسات الحكومية .
- المواقع السياحية .

• يرفع في المؤتمرات والمناسبات الرسمية .

• توجد صورة العلم على وسائل النقل

الدولية ، مثل :

- الطائرات .

أولًا : مدلول الألوان والرموز في علم مصر

شكل العلم :

• علم مصر على شكل مستطيل .

يتكون من ثلاثة ألوان :

- أحمر : يعبر عن مرحلة النضال ودماء الشهداء من أجل الحرية .
- أبيض : يعبر عن السلام .
- أسود : يعبر عن الظلم الذي تعرضت له مصر في فترات الاستعمار .

النسر في علم مصر :

- مأخوذ عن نسر صلاح الدين وغير من إلى قوة مصر وعراقة حضارتها .

رابعًا : تطور علم مصر

العلم	اسم العلم	الأعوام التي اعتمد فيها
	العلم الذي اختاره محمد علي باشا	١٨٠٥م - ١٨٦٧م
	علم الخديوي إسماعيل	١٨٦٧م - ١٩٢٢م
	علم الملك فؤاد الأول	١٩٢٣م - ١٩٥٢م
	علم ثورة يوليو	١٩٥٢م - ١٩٥٨م
	علم الجمهورية العربية المتحدة (مصر وسوريا وليبيا)	١٩٥٨م - ١٩٧١م
	علم اتحاد الجمهوريات العربية (مصر وسوريا وليبيا)	١٩٧١م - ١٩٨٤م
	علم مصر الحالي	١٩٨٤م حتى يومنا هذا



ملخص الدرس السادس : الأعياد القومية في محافظاتنا وشعاراتها

أولاً : العيد القومي للمحافظة

- لكل محافظة عيد قومي خاص بها يرتبط بحدث تاريخي أو ذكرى مهمة مرت بها المحافظة .

العيد القومي لمحافظة القاهرة

- تحتفل محافظة القاهرة بعيدها القومي في السادس من يوليو من كل عام .
- يوافق هذا اليوم ذكرى وضع القائد جوهر الصقلي حجر الأساس لبناء مدينة القاهرة عام ٩٦٩ م .

ثانياً : مظاهر الاحتفال بالعيد القومي للمحافظة

- ترزين وتجميل الميادين والشوارع .
- إقامة المهرجانات والاحتفالات والمسابقات .
- رفع علم مصر وشعار المحافظة أثناء الاحتفالات .
- افتتاح المحافظ لعدد من المشروعات لخدمة أبناء المحافظة .

ثالثاً : شعار المحافظة

- هو راية تتخذها المحافظة رمزاً لها ؛ لتعبر عن نشاط سكانها أو جزء من تاريخها .

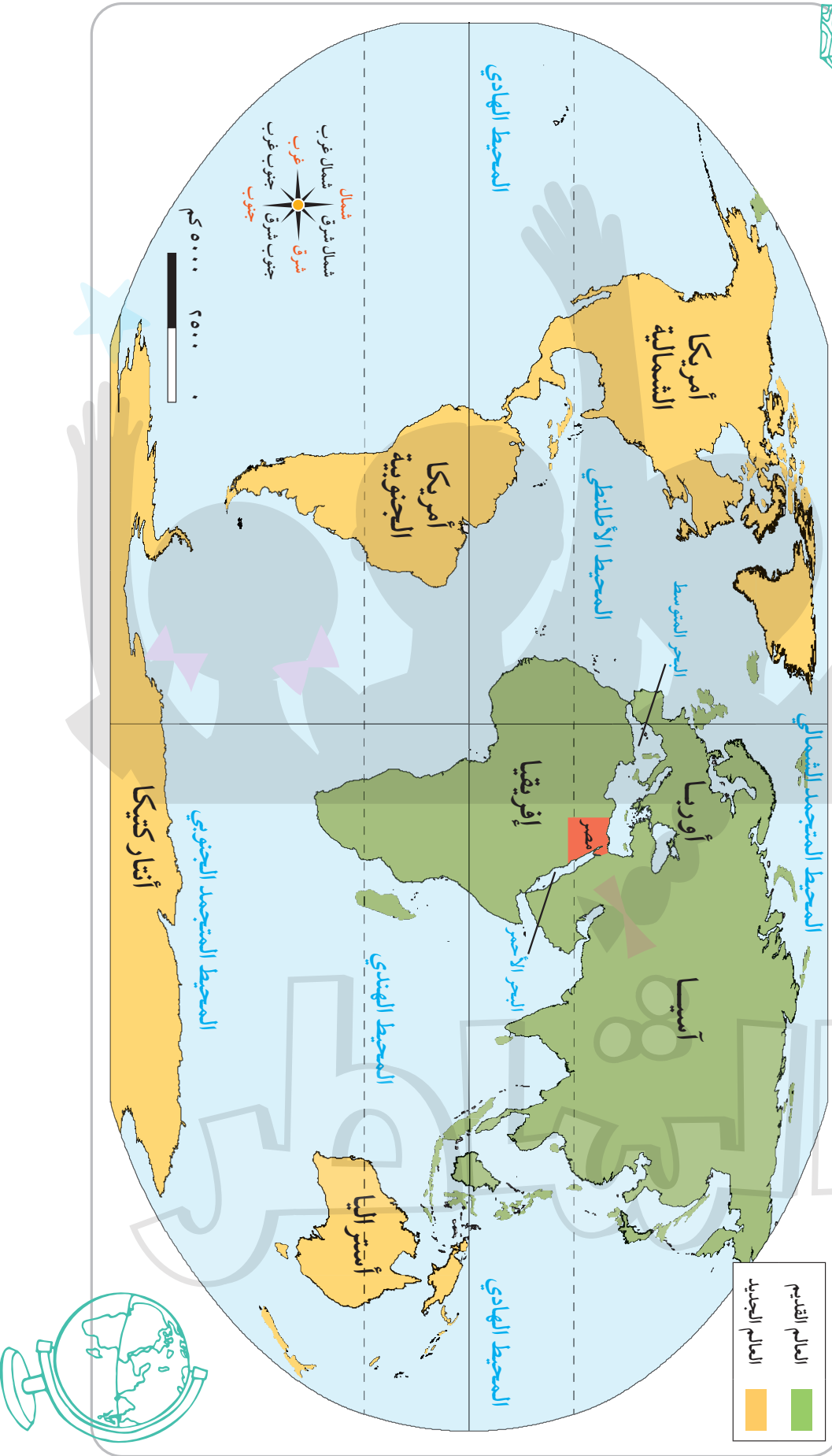
شعار محافظة القاهرة

- صورة الجامع الأزهر الشريف مكتوباً على قاعدته كلمة « القاهرة » ، وخلف الجامع شمس ساطعة تدل على أن الأزهر هو منارة الإسلام في العالم .

عناصر الخريطة


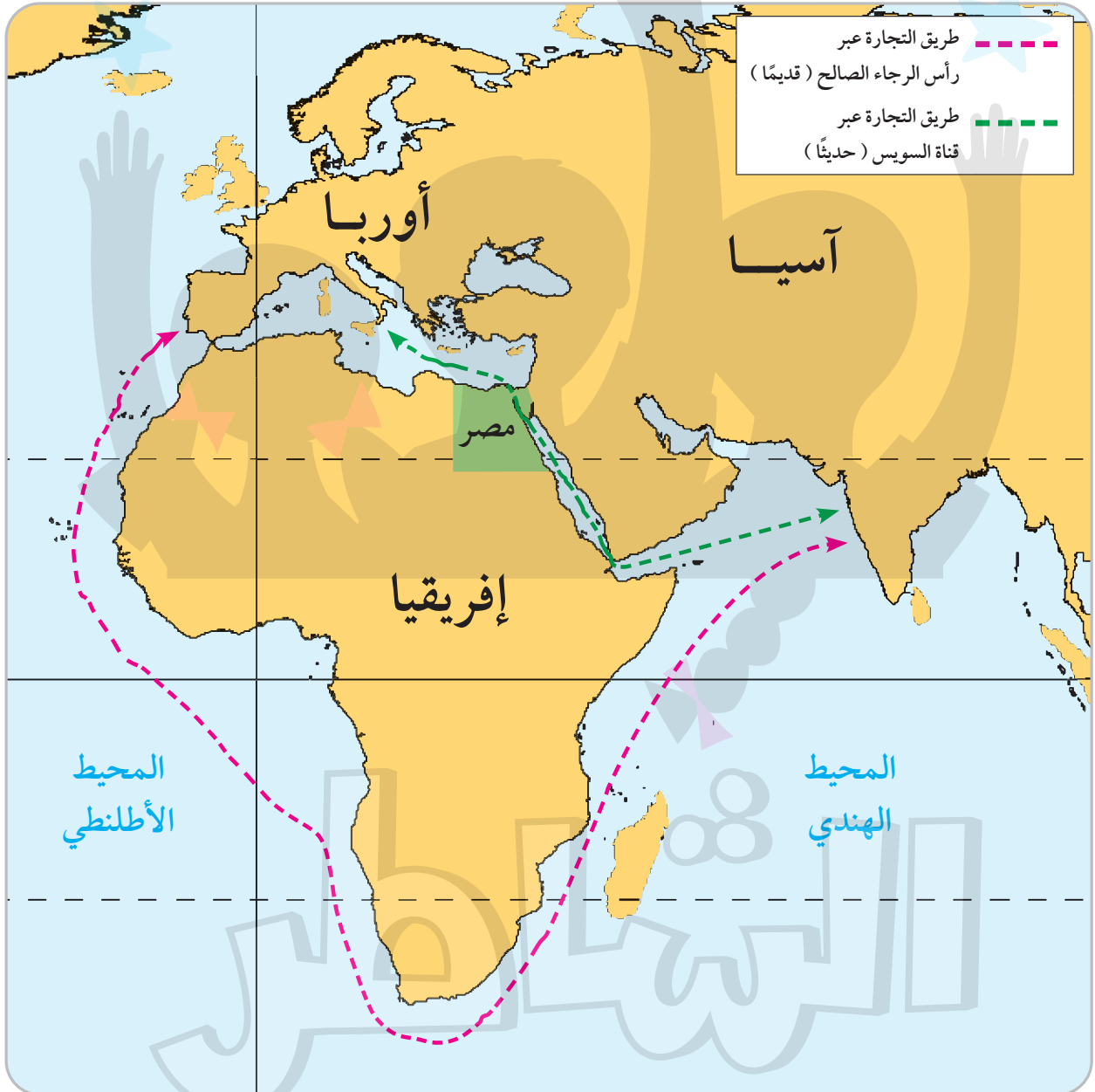


موقع مصر بالنسبة إلى العالم





طرق التجارة العالمية قديماً وحديثاً





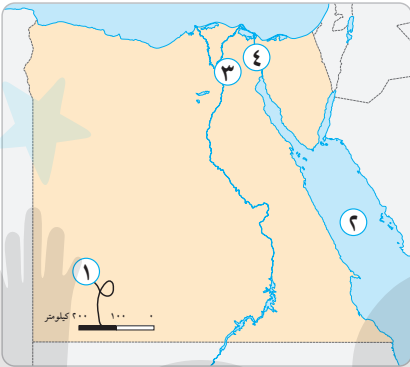
محافظات مصر



(ثالثًا) امتحانات الشاطر على شهر أكتوبر ٢٠٢٢

الامتحان الأول

السؤال الأول: أمامك خريطة صماء لمصر ، وضح مدلول الأرقام التي عليها :



١ - أحد عناصر الخريطة

٢ - البحر

٣ - مدينة

٤ - قناة

السؤال الثاني: اختر الإجابة الصحيحة من بين الإجابات الآتية :

١ - « مدينة شرم الشيخ من أجمل المدن المصرية » .. هذه الجملة تُعبر عن :

د خيال

ج اقتراح

ب رأي

أ حقيقة

٢ - يحيط بمصر من جهة البحر المتوسط .

د الغرب

ج الشمال

ب الجنوب

أ الشرق

٣ - من محافظات الحدود الصحراوية محافظة :

د أسوان

ج شمال سيناء

ب المنوفية

أ القاهرة

السؤال الثالث: اكتب ما تشير إليه كل عبارة فيما يلي :

١ - هو النسبة بين المسافة على الخريطة وما يقابلها على الطبيعة . (.....)

٢ - قناة مائية قديمة ربطت بين البحرين الأحمر والمتوسط عن طريق (.....)

نهر النيل . (.....)

٣ - مساحة من الأرض تضم مجموعة من المراكز أو الأحياء . (.....)

السؤال الرابع: صوب ما تحته خط :

١ - يتكون عَلم مصر من خمسة ألوان . (.....)

٢ - وضع القائد صلاح الدين حجر الأساس لبناء مدينة القاهرة عام ٩٦٩ م . (.....)

السؤال الخامس : أجب عما يلي :

١ - ماذا يحدث إذا ... ؟

■ لم يتم حفر قناة السويس .

٢ - بم تفسر ... ؟

■ أهمية الخريطة للجيش .

٣ - ما العلاقة بين ... ؟

■ موقع مصر الجغرافي وازدهار الاقتصاد المصري عبر التاريخ .

٤ - ما النتائج المترتبة على ... ؟

■ اتساع مساحة مصر .

٥ - ما رأيك في ... ؟

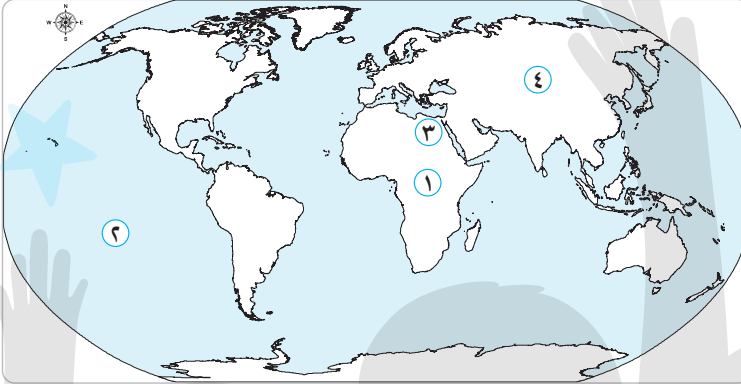
■ أهمية احترام العلم المصري .

الامتحان الثاني

١٥

السؤال الأول: أمامك خريطة صماء للعالم ، وضح مدلول الأرقام التي عليها :

٢



- ١ - قارة
- ٢ - المحيط
- ٣ - دولة
- ٤ - قارة

٣

السؤال الثاني: أكمل العبارات الآتية بكلمات مناسبة :

- ١ - من عناصر الخريطة
- ٢ - يُعبر اللون في عَلم مصر عن السلام .
- ٣ - توجد صورة الجامع الأزهر في شعار محافظة

٣

السؤال الثالث: من هو ... ؟

- ١ - حُفرت في عهده قناة سيزوستريس .
- ٢ - قام بتلحين النشيد الوطني المصري .
- ٣ - وضع حجر الأساس لبناء مدينة القاهرة عام ٩٦٩ م .

السؤال الرابع: اكتب كلمة (صح) أمام العبارة الصحيحة وكلمة (خطأ) أمام العبارة الخطأ :

٢

- ١ - يتم التقاط الصور الفضائية بواسطة الطائرات .
- ٢ - البرديات من المصادر الأولية للمعلومات .
- ٣ - كان طريق رأس الرجاء الصالح يدور حول قارة أوروبا .
- ٤ - ربط نهر النيل بين شمال وجنوب مصر .

السؤال الخامس : أجب عما يلي :

١ - ما المقصود بـ ... ؟

■ الحدود الإدارية .

٢ - بم تفسر ... ؟

■ اختيار القاهرة عاصمة لمصر .

٣ - ماذا يحدث إذا ... ؟

■ لم توجد قناة السويس في مصر .

٤ - حلل :

■ العلاقة بين التكديس السكاني والعاصمة الإدارية الجديدة .

٥ - اكتب دليلاً واحداً على :

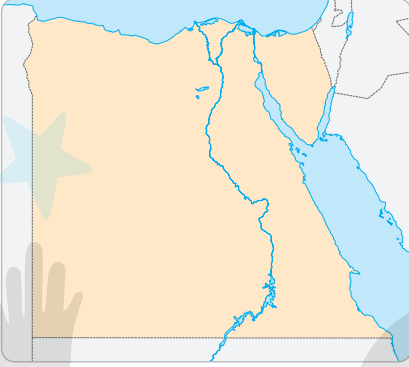
■ اهتمام الدولة بتطوير القاهرة عاصمة البلاد .

الامتحان الثالث

١٥

٢

السؤال الأول: أمامك خريطة صماء لمصر ، حدد عليها موقع كل من :



- ١ - نهر النيل .
- ٢ - البحر الأحمر .
- ٣ - قناة السويس .
- ٤ - البحر المتوسط .

٣

السؤال الثاني: صل المجموعة (أ) بما يناسبها من المجموعة (ب) :

(ب)	(أ)
• مطروح .	١ - إحدى محافظات الوجه القبلي :
• القاهرة .	٢ - إحدى محافظات الوجه البحري :
• المنوفية .	٣ - عاصمة مصر :
• أسوان .	٤ - محافظة حدودية صحراوية :

٢

السؤال الثالث: أكمل العبارات الآتية بكلمات مناسبة مما بين القوسين :

(اللون الأحمر - اللون الأسود - اللون الأبيض - النسر الذهبي)

- ١ - يُعبر في عَلم مصر عن السلام .
- ٢ - يُعبر في عَلم مصر عن قوة وعراقة مصر وحضارتها .
- ٣ - يُعبر في عَلم مصر عن دماء الشهداء .
- ٤ - يُعبر في عَلم مصر عن الاستعمار والظلم .

٣

السؤال الرابع: لمن تنسب الأعمال الآتية ... ؟

- ١ - قام بتأليف كلمات النشيد الوطني المصري . (.....)
- ٢ - قام بتلحين النشيد الوطني المصري . (.....)
- ٣ - وضع حجر الأساس لبناء مدينة القاهرة عام ٩٦٩ م . (.....)

السؤال الخامس : أجب عما يلي :

١ - قارن بين :

■ الصور الجوية والصور الفضائية .

٢ - ما العلاقة بين ... ؟

■ طريق رأس الرجاء الصالح وقارة إفريقيا .

٣ - بم تفسر ... ؟

■ إنشاء الدولة للعاصمة الإدارية الجديدة .

٤ - ما النتائج المترتبة على ... ؟

■ حفر قناة السويس .

٥ - ما هي ... ؟

■ مظاهر احتفال المحافظة بعيدها القومي . (يكتفى باثنين)

الامتحان الرابع

١٥

٢

السؤال الأول: أمامك خريطة صماء لمصر ، وضح مدلول الأرقام التي عليها :



١ - أحد عناصر الخريطة

٢ - البحر

٣ - عاصمة مصر

٤ - نهر

السؤال الثاني: صنف المحافظات الآتية إلى (وجه بحري - وجه قبلي - حدود صحراوية) :

١ - المنوفية . (.....) ٢ - الشرقية . (.....)

٣ - مطروح . (.....) ٤ - قنا . (.....)

٥ - أسوان . (.....) ٦ - جنوب سيناء . (.....)

٢

السؤال الثالث: صوب ما تحته خط :

١ - يشير مقياس الرسم إلى المعلومات الواردة على الخريطة . (.....)

٢ - تقع مصر شمال شرق قارة آسيا . (.....)

٣ - الأبحاث من المصادر الأولية للمعلومات . (.....)

٤ - توجد في شعار محافظة القاهرة صورة مسجد السلطان حسن . (.....)

٣

السؤال الرابع: اختر الإجابة الصحيحة من بين الإجابات الآتية :

١ - من قارات العالم الجديد قارة :

أ آسيا ب أوروبا ج أستراليا د إفريقيا

٢ - إذا أردت كتابة بحث عن أهمية موقع مصر فإنك تستعين بأحد مؤلفات :

أ طه حسين ب سيد درويش ج جمال حمدان د مصطفى مشرفة

٣ - يتكون عَلم مصر من ألوان .

أ خمسة ب سبعة ج ثلاثة د أربعة

السؤال الخامس : أجب عما يلي :

١ - وضح :

■ أهمية الخريطة للطالب .

٢ - قارن بين ... ؟

■ القارات والمحيطات .

٣ - ما المقصود بـ ... ؟

■ الخريطة .

٤ - حدد سبباً واحداً لـ ... :

■ أهمية وجود علم لكل دولة .

٥ - ما رأيك في ... ؟

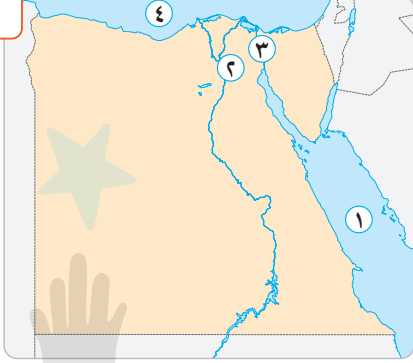
■ إنشاء العاصمة الإدارية الجديدة .

الامتحان الخامس

١٥

٢

السؤال الأول: أمامك خريطة صماء لمصر، وضع مدلول الأرقام التي عليها:



١ - البحر

٢ - عاصمة مصر

٣ - قناة

٤ - البحر

السؤال الثاني: اكتب كلمة (صح) أمام العبارة الصحيحة وكلمة (خطأ) أمام العبارة الخاطئة:

٣

()

()

()

١ - تتخذ خطوط الطول شكلاً أفقياً .

٢ - يتكون علم مصر من ثلاثة ألوان .

٣ - يتم التقاط الصور الفضائية بالطائرات .

٢

السؤال الثالث: اختر الإجابة الصحيحة من بين الإجابات الآتية:

١ - من محافظات الوجه البحري محافظة:

د المنوفية

ج أسوط

ب مطروح

أ أسوان

٢ - من المصادر الثانوية للمعلومات:

ب النقوش على القطع الأثرية

د الوثائق الرسمية

أ البرديات

ج الأبحاث

٣ - توجد الكنيسة المعلقة في محافظة:

د سوهاج

ج السويس

ب القاهرة

أ الإسكندرية

٤ - يُعبر اللون في علم مصر عن السلام .

د الأبيض

ج الأسود

ب الأخضر

أ الأحمر

السؤال الرابع: اكتب ما تشير إليه كل عبارة فيما يلي :

٣

١ - قناة حُفرت في عهد سنوسرت الثالث ، ربطت بين البحرين الأحمر والمتوسط

(.....) عن طريق نهر النيل .

(.....) ٢ - مساحات واسعة من الماء المالح ذات أعماق كبيرة .

(.....) ٣ - محافظات تقع على حدود مصر مع الدول المجاورة لها .

٥

السؤال الخامس: أجب عما يلي :

١ - حدد اثنين من السلوكيات التي تعبر عن :

■ احترامك لعلم بلدك .

٢ - قارن بين :

■ قناة السويس وطريق رأس الرجاء الصالح .

٣ - اشرح :

■ أهمية الخريطة في حياتنا .

٤ - حدد اثنين من :

■ مظاهر احتفال محافظتك بعيدها القومي .

٥ - بم تفسر ... ؟

■ إنشاء العاصمة الإدارية الجديدة .

(رابعًا) الإجابات الاسترشادية على امتحانات الشاطر على شهر أكتوبر ٢٠٢٢

السؤال الرابع :

- ١ - خطأ .
٢ - صح .
٣ - خطأ .
٤ - صح .

السؤال الخامس :

- ١ - هي الحدود التي تفصل المحافظة عن المحافظات المجاورة لها .
٢ - لأنها تربط بين الوجهين البحري والقبلي .
٣ - لم يتم ربط البحر الأحمر بالبحر المتوسط .
٤ - تم إنشاء العاصمة الإدارية الجديدة لتخفيف الضغط السكاني وتكديس الخدمات في العاصمة الحالية (القاهرة) .
٥ - أقامت الدولة بعض المشاريع لتطوير القاهرة مثل مشروع تطوير حي الأسمرات .

الامتحان الثالث

السؤال الأول : أجب بنفسك .

السؤال الثاني :

- ١ - أسوان .
٢ - المنوفية .
٣ - القاهرة .
٤ - مطروح .

السؤال الثالث :

- ١ - اللون الأبيض .
٢ - النسر الذهبي .
٣ - اللون الأحمر .
٤ - اللون الأسود .

السؤال الرابع :

- ١ - محمد يونس القاضي .
٢ - سيد درويش .
٣ - جوهر الصقلي .

السؤال الخامس :

١ -

الصور الجوية	الصور الفضائية
هي الصور التي يتم التقاطها من الجو باستخدام الطائرات .	هي الصور التي يتم التقاطها بواسطة الأقمار الصناعية .

الامتحان الأول

السؤال الأول :

- ١ - مقياس الرسم .
٢ - الأحمر .
٣ - القاهرة .
٤ - السويس .

السؤال الثاني :

- ١ - ب .
٢ - ج .
٣ - ج .

السؤال الثالث :

- ١ - مقياس الرسم .
٢ - قناة سيزوستريس .
٣ - المحافظات .

السؤال الرابع :

- ١ - ثلاثة .
٢ - جوهر الصقلي .

السؤال الخامس :

- ١ - لم يتم توصيل البحر الأحمر بالبحر المتوسط .
٢ - لم يصبح لمصر دور رئيسي في التجارة الدولية .
٣ - تحديد أماكن المواقع الحربية .
٤ - كان لموقع مصر دور في ازدهار الاقتصاد المصري عبر التاريخ ؛ لوجود نهر النيل والبحر الأحمر والبحر المتوسط ، وزادت أهميتها الاقتصادية بعد حفر قناة السويس .
٥ - أدى إلى تقسيم مصر إلى محافظات ومراكز وأحياء .
٦ - أجب بنفسك .

الامتحان الثاني

السؤال الأول :

- ١ - إفريقيا .
٢ - الهادي .
٣ - مصر .
٤ - آسيا .

السؤال الثاني :

- ١ - عنوان الخريطة .
٢ - الأبيض .
٣ - القاهرة .

السؤال الثالث :

- ١ - سنوسرت الثالث .
٢ - سيد درويش .
٣ - جوهر الصقلي .

الامتحان الخامس

السؤال الأول :

- ١ - الأحمر .
٢ - القاهرة .
٣ - السويس .
٤ - المتوسط .

السؤال الثاني :

- ١ - خطأ .
٢ - صح .
٣ - خطأ .

السؤال الثالث :

- ١ - د
٢ - ج
٣ - ب
٤ - د

السؤال الرابع :

- ١ - قناة سيزوستريس .
٢ - المحيطات .
٣ - محافظات الحدود الصحراوية .

السؤال الخامس :

- ١ - الوقوف أثناء تحية العلم .
٢ - عدم الكتابة أو الرسم عليه .
٣ - قناة سيزوستريس .
٤ - المحيطات .

طريق رأس الرجاء الصالح	قناة السويس
طريق قديم كانت تقطعه السفن حول قارة إفريقيا .	قناة مائية صناعية تصل بين البحرين الأحمر والمتوسط .

٣ - الخريطة مهمة لكل من :

- الفلاح يستخدمها لتحديد ملكية الأراضي الزراعية .
■ الجيش يستخدمها لتحديد المواقع الحربية .
■ السائح يستخدمها للوصول إلى المناطق السياحية والأثرية .
■ الطيار والقبطان يستخدمانها لتحديد المواقع .
■ الطالب يستخدمها في مذاكرته .
٤ - أجب بنفسك .
٥ - لتخفيف الضغط السكاني وتكديس الخدمات في العاصمة الحالية .

- ٢ - طريق رأس الرجاء الصالح هو طريق تجاري يدور حول قارة إفريقيا .
٣ - لتخفيف الضغط السكاني وتكديس الخدمات في العاصمة الحالية (القاهرة) .
٤ - زادت من أهمية موقع مصر .
■ سهلت التجارة بين الشرق والغرب .
٥ - تزيين وتجميل الميادين والشوارع .
■ قيام المحافظ بافتتاح عدد من المشروعات لخدمة أبناء المحافظة .

الامتحان الرابع

السؤال الأول :

- ١ - وردة البوصلة .
٢ - المتوسط .
٣ - القاهرة .
٤ - النيل .

السؤال الثاني :

- ١ - وجه بحري .
٢ - وجه بحري .
٣ - حدود صحراوية .
٤ - وجه قبلي .
٥ - وجه قبلي .
٦ - حدود صحراوية .

السؤال الثالث :

- ١ - عنوان الخريطة .
٢ - إفريقيا .
٣ - الثانوية .
٤ - الجامع الأزهر الشريف .

السؤال الرابع :

- ١ - ج
٢ - ج
٣ - ج

السؤال الخامس :

- ١ - يستخدم الطالب الخريطة في المذاكرة .
٢ -

المحيطات	القارات
هي مساحات واسعة من الماء المالح ذات أعماق كبيرة .	هي مساحات واسعة من اليابس تضم عددًا من الدول .

- ٣ - الخريطة هي رسم توضيحي لسطح الأرض أو جزء منه باستخدام مجموعة من الرموز والألوان وبمقياس رسم محدد .
٤ - لأنه يعد رمزًا لتاريخها وتراثها ، ولكل جزء فيه معنى خاص به .
٥ - أجب بنفسك .